

Aluno: _____

Escola: _____




Data: ___/___/___ Ano de Escolaridade: **3º** Professor (a): Disciplina: **Matemática**

Semana: 40 – 22 a 27 de novembro de 2021

Conteúdo(s) desenvolvido(s): Divisão


Motive-se! Aprenda! Vídeo: <https://www.youtube.com/watch?v=9TL3PhPJ3kU&t=205s>

1 – Calcule as multiplicações e as divisões:

4	X		=	32			:	4	=	3
	X	7	=	21			:	3	=	8
4	X	9	=				:	4	=	5
	X	5	=	20			:	3	=	2
3	X	6	=				:	3	=	3
4	X		=	16			:	3	=	9

2 – Resolva os probleminhas:

a) - A professora de Sofia organizou um dia de brincadeiras e levou 13 bonecas para dividir com suas 4 alunas. Quantas bonecas cada uma ficou?



b) Para o lanche, Clarice preparou 48 bolinhos de vários sabores e arrumou – os em caixinhas com 2 bolinhos em cada. Quantas caixinhas ela organizou?



c). Para deixar seus alunos ainda mais felizes, ela comprou 72 pirulitos e dividiu igualmente colocando 3 unidades em cada saquinho de surpresa. Quantos saquinhos ela fez?

3 – Na festa de aniversário de Caroline, sua tia organizou grupos para uma brincadeira. Havia 48 crianças, quantos grupos formará?

a) Se ela formar grupos de 4?

b) Se ela formar grupos de 3?

c) Se ela formar grupos de 2?



d) Se chegar mais 6 crianças e ela formar grupos de 3. Quantas crianças terão em cada grupo?