

Aluno: \_\_\_\_\_

Escola: \_\_\_\_\_

Data: \_\_\_\_/\_\_\_\_/\_\_\_\_

Ano de Escolaridade: 1º

Professor (a): \_\_\_\_\_

Disciplina: Matemática

### Semana 43: de 13 a 17 de dezembro de 2021

**CONTEÚDO:** NÚMEROS NATURAIS ATÉ 99; RETA NUMÉRICA; NOÇÃO DE MULTIPLICAÇÃO (TRIPLO) E DIVISÃO; SIMETRIA.







1- PINTE O NÚMERO MAIOR DE VERMELHO E O MENOR DE AZUL.



2- MULTIPLICAÇÃO É A ADIÇÃO DE PARCELAS IGUAIS. OBSERVE O EXEMPLO E COMPLETE.

$$2 \times 4 = 4 + 4 = 8$$



 <p> <math>5 + 5 =</math> _____            2 VEZES 5 = _____  <math>2 \times 5 =</math> _____         </p>	 <p> <math>7 + 7 =</math> _____            2 VEZES 7 = _____  <math>2 \times 7 =</math> _____         </p>	 <p> <math>3 + 3 =</math> _____            2 VEZES 3 = _____  <math>2 \times 3 =</math> _____         </p>
 <p> <math>3 + 3 + 3 =</math> _____            3 VEZES 3 = _____  <math>3 \times 3 =</math> _____         </p>	 <p> <math>5 + 5 + 5 =</math> _____            3 VEZES 5 = _____  <math>3 \times 5 =</math> _____         </p>	 <p> <math>4 + 4 + 4 =</math> _____            3 VEZES 4 = _____  <math>3 \times 4 =</math> _____         </p>

