



Aluno: _____
Escola: _____
Data: ____/____/____
Professor (a): _____

Ano de Escolaridade: 4º
Disciplina: **Matemática**

Semana 34: de 11/ 13 e 14 outubro

Conteúdo(s) desenvolvido(s): -- Reta numérica. - Antecessor e Sucessor.

Motive-se! Aprenda! Vídeo:

<https://www.youtube.com/watch?v=gL557DwWLNQ>

<https://www.youtube.com/watch?v=DZmtvMJ5G5E>

<https://www.youtube.com/watch?v=GkvSIQRJagw&t=47s>

Consulte seu livro didático, *A conquista da Matemática*, página 12 e 13 e faça as atividades propostas.

Atividade

1) Complete as lacunas com o sucessor:




396 = _____ 526 = _____ 9.301 = _____ 2.987 = _____

2) Complete as lacunas com o antecessor:

562 = _____ 896 = _____ 6.340 = _____ 905 = _____

Descobrimos números na reta numérica

Cada criança está escondendo um número na reta numérica. Você consegue descobrir quais são?

30	32		35	38	40	<input type="text" value="Número escondido"/>
50	53		68			<input type="text" value="Número escondido"/>
125	135	140			175	<input type="text" value="Número escondido"/>

3) Complete a reta numérica de acordo com os intervalos indicados:

a) Intervalo de 5:



b) Intervalo de 9:



c) Intervalo de 13:



d) Intervalo de 15:

