

Aluno: _____

Escola: _____

Data: ___/___/___

Ano de Escolaridade: 1º

Turma: _____

Professor (a): _____






Disciplina: **Matemática**

Semana 37: de 03 a 05 de novembro

Conteúdo(s) desenvolvido(s): Números naturais até 99; adição; noção de divisão (metade); reta numérica.

Motive-se! Aprenda! Vídeo: <https://www.youtube.com/watch?v=B95y2Pd6ILQ>

1) OBSERVE OS NÚMEROS QUE ALGUMAS CRIANÇAS SORTEARAM, DEPOIS FAÇA O QUE SE PEDE.

GABRIELA	JOÃO	MATHEUS	MARIA	GUSTAVO	LUIS
					
52	18	36	45	99	69

A) PINTE DE AZUL O MAIOR NÚMERO SORTEADO.

B) PINTE DE AMARELO O MENOR NÚMERO SORTEADO.

C) CIRCULE A CRIANÇA QUE SORTEOU O NÚMERO **TRINTA E SEIS**.

D) COPIE O NÚMERO QUE **LUÍS** SORTEOU: _____

E) FAÇA UM (X) NA CRIANÇA QUE TIROU O NÚMERO **QUARENTA E CINCO**.

F) COLOQUE OS NÚMEROS EM ORDEM CRESCENTE.

2) RESOLVA AS ADIÇÕES E LIGUE AS QUE TEM O MESMO RESULTADO.

$$\begin{array}{r} 2 \ 4 \\ +4 \ 2 \\ \hline \end{array}$$

$$\begin{array}{r} 6 \ 7 \\ +1 \ 1 \\ \hline \end{array}$$

$$\begin{array}{r} 4 \ 4 \\ +1 \ 5 \\ \hline \end{array}$$

$$\begin{array}{r} 5 \ 3 \\ +2 \ 1 \\ \hline \end{array}$$

$$\begin{array}{r} 5 \ 2 \\ +2 \ 6 \\ \hline \end{array}$$

$$\begin{array}{r} 2 \ 6 \\ +3 \ 3 \\ \hline \end{array}$$


$$\begin{array}{r} 3 \ 1 \\ +4 \ 3 \\ \hline \end{array}$$

$$\begin{array}{r} 5 \ 2 \\ +1 \ 6 \\ \hline \end{array}$$


$$\begin{array}{r} 3 \ 5 \\ +3 \ 3 \\ \hline \end{array}$$

$$\begin{array}{r} 3 \ 2 \\ +3 \ 4 \\ \hline \end{array}$$


3) PINTE A METADE E COMPLETE.




A metade de 8 é _____




A metade de 4 é _____



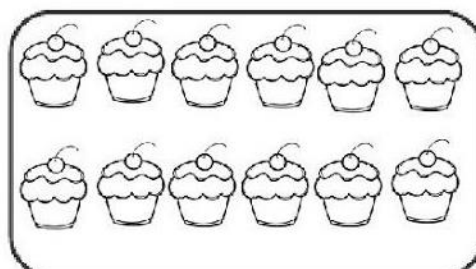
A metade de 2 é _____



A metade de 6 é _____



A metade de 10 é _____



A metade de 12 é _____