

Aluno: \_\_\_\_\_

Escola: \_\_\_\_\_

Data: \_\_\_\_/\_\_\_\_/\_\_\_\_

Ano de Escolaridade: 2º

Professor (a): \_\_\_\_\_

Disciplina: MATEMÁTICA

## Semana 36: de 25 de outubro a 29 de outubro de 2021

Conteúdo(s) desenvolvido(s): MULTIPLICAÇÃO, RETA NUMÉRICA.

**Motive-se! Aprenda!** Vídeo: <https://youtu.be/Efq4ZZK9JQ0>


### 1- COMPLETE PARA CALCULAR O TOTAL:

A) QUANTOS LÁPIS TEM NO TOTAL?

ADIÇÃO: ( ) + ( ) = ( )

MULTIPLICAÇÃO: ( ) X ( ) = ( )

TOTAL DE LÁPIS: ( )

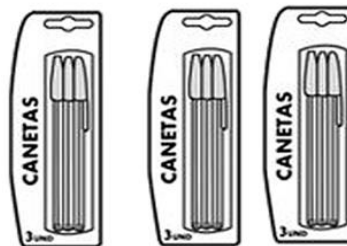


B) QUANTAS CANETAS TEM NO TOTAL?

ADIÇÃO: ( ) + ( ) = ( )

MULTIPLICAÇÃO: ( ) X ( ) = ( )

TOTAL DE CANETAS: ( )



### 2- OBSERVE O EXEMPLO E COMPLETE:

	$2 \times 1 = 2$
	$2 \times 2 = 4$
	$\square \times \square = \square$
	$\square \times \square = \square$
	$\square \times \square = \square$
	$\square \times \square = \square$
	$\square \times \square = \square$
	$\square \times \square = \square$
	$\square \times \square = \square$

Aluno: \_\_\_\_\_

Escola: \_\_\_\_\_

Data: \_\_\_\_/\_\_\_\_/\_\_\_\_

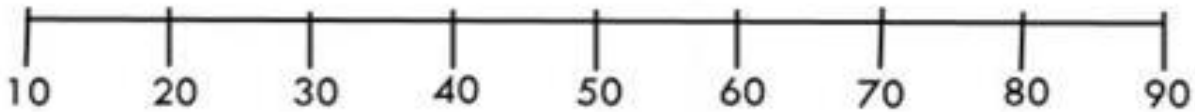
Ano de Escolaridade: 2º

Professor (a): \_\_\_\_\_

Disciplina: MATEMÁTICA

### Semana 36: de 25 de outubro a 29 de outubro de 2021

3- OBSERVE A RETA NUMÉRICA:



- DE ACORDO COM A RETA NUMÉRICA, ESCREVA A DEZENA MAIS PRÓXIMA DE:

A) 18 - \_\_\_\_\_ B) 62 - \_\_\_\_\_ C) 58 - \_\_\_\_\_

D) 29 - \_\_\_\_\_ E) 41 - \_\_\_\_\_ F) 8 - \_\_\_\_\_

4- RESOLVA COM MULTIPLICAÇÃO:

A) UM CÃO TEM 4 PATAS. QUANTAS PATAS TEM 2 CÃES?



R: \_\_\_\_\_

B) PAPAI LÊ 2 FOLHAS DE UM LIVRO POR HORA. QUANTAS FOLHAS ELE LÊ EM 5 HORAS?



R: \_\_\_\_\_

C) MARIA COLOCOU 7 BOMBONS EM CADA PACOTE DE GULOSEIMAS. QUANTOS BOMBONS HÁ EM 2 PACOTES?



R: \_\_\_\_\_