



GOVERNO DO ESTADO DO RIO DE JANEIRO
MUNICÍPIO DE SANTO ANTÔNIO DE PÁDUA
SECRETARIA MUNICIPAL DE EDUCAÇÃO




Aluno: _____
Escola: _____
Data: ____/____/____ Ano de Escolaridade: 1º
Professor (a): _____ Disciplina: MATEMÁTICA

Semana 38: de 08 a 12 de Novembro de 2021

Conteúdo(s) desenvolvido(s): Números naturais até 99; Reta Numérica;
Noção de Multiplicação (dobro); Dúzia e meia Dúzia.

Motive-se! Aprenda! Vídeo: <https://www.youtube.com/watch?v=Ikj9C6pLw44>
<https://www.youtube.com/watch?v=7Tsvhc86ISY>

1- OBSERVE OS NÚMEROS NOS BALÕES E FAÇA O QUE SE PEDE:



A) COPIE O NOME DA CRIANÇA QUE TEM O BALÃO DE NÚMERO **VINTE E UM**:

B) CIRCULE O NOME DA CRIANÇA QUE ESTÁ COM O BALÃO COM O **MAIOR** NÚMERO:

C) COLORIR O NOME DA CRIANÇA QUE ESTÁ COM O **MENOR** NÚMERO:

D) COPIE OS NÚMEROS DOS BALÕES DO EDU:

E) QUAL É O ANTECESSOR DO NÚMERO DO BALÃO DA ANA?

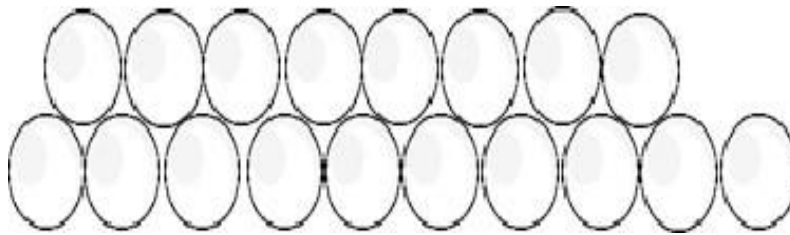

2- COMPLETE AS FRASES ESCRREVENDO OS NÚMEROS PEDIDOS:

- A) É O NÚMERO QUE ESTÁ ENTRE O 49 E O 51: _____
- B) É O NÚMERO QUE VEM ANTES DO 60: _____
- C) É O NÚMERO QUE VEM DEPOIS DO 89: _____
- D) É O NÚMERO QUE ESTÁ ENTRE O 84 E 86: _____
- E) É O NÚMERO QUE VEM DEPOIS DO 29: _____




3- A TARTARUGA TATÁ BOTOU **UMA DÚZIA** DE OVOS E A TARTARUGA TITA BOTOU **MEIA DÚZIA**.

TATÁ




TITA



A) PINTE A QUANTIDADE DE OVOS DA TARTARUGA TATÁ DE AMARELO.

B) PINTE A QUANTIDADE DE OVOS DA TARTARUGA TITA DE AZUL.

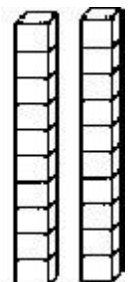
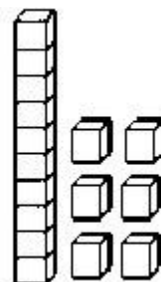
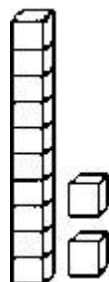
C) QUAL TARTARUGA BOTOU MAIS OVOS? _____



D) AS TARTARUGAS MARINHAS ESTÃO AMEAÇADAS DE EXTINÇÃO. POR ISSO, OS **12 OVOS** DA TARTARUGA TATÁ SERÃO PROTEGIDOS POR 2 BIÓLOGOS. CADA UM CUIDARÁ DA METADE. DISTRIBUA OS OVOS EM SEUS CESTOS. QUANTOS OVOS CADA UM CUIDARÁ?



E) PINTE DE VERMELHO A REPRESENTAÇÃO DO MATERIAL DOURADO QUE CORRESPONDE A 1 DÚZIA E DE VERDE O QUE REPRESENTA **MEIA DÚZIA**



DOBRO → 2x



PARA ACHAR O DOBRO DE UM NÚMERO BASTA VOCÊ MULTIPLICAR ESSE NÚMERO POR 2, OU AINDA, SOMAR ESSE MESMO NÚMERO DUAS VEZES.

VEJA OS EXEMPLOS:

O DOBRO DE 5 É O MESMO QUE $2 \times 5 = 10$ OU $5 + 5 = 10$.

O DOBRO DE 7 É O MESMO QUE $2 \times 7 = 14$ OU $7 + 7 = 14$.

1. Complete as frases, seguindo o exemplo:

O dobro de 4 é 8 \Rightarrow 2 x 4 = 8 ou 4 + 4 = 8

Agora é sua vez!

O dobro de 9 é _____ \Rightarrow ___ x ___ = ___ ou ___ + ___ = ___

O dobro de 6 é _____ \Rightarrow ___ x ___ = ___ ou ___ + ___ = ___

O dobro de 2 é _____ \Rightarrow ___ x ___ = ___ ou ___ + ___ = ___

O dobro de 8 é _____ \Rightarrow ___ x ___ = ___ ou ___ + ___ = ___

O dobro de 3 é _____ \Rightarrow ___ x ___ = ___ ou ___ + ___ = ___

2. Selecione as alternativas incorretas:

- O dobro de 3 é 6.
- O dobro de 7 é 10.
- O dobro de 2 é 6.
- O dobro de 6 é 12.
- O dobro de 9 é 16.

