



Aluno: _____
Escola: _____
Data: ____/____/____
Professor (a): _____

Ano de Escolaridade: 3º
Disciplina: Matemática

Semana 13: de 16 a 19 de novembro de 2021

Conteúdo(s) desenvolvido(s): Números naturais até 99/ Reta numérica/
Composição e decomposição.

Motive-se! Aprenda!

Vídeo: <https://youtu.be/xfftTzFCfOI>
<https://youtu.be/l1kk6XrhxnM>

ATIVIDADE

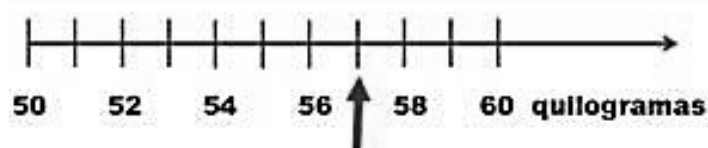
1- Complete as retas numéricas de acordo com os intervalos sugeridos.

a) Intervalo de 5.

b) Intervalo de 9.

c) Intervalo de 13.

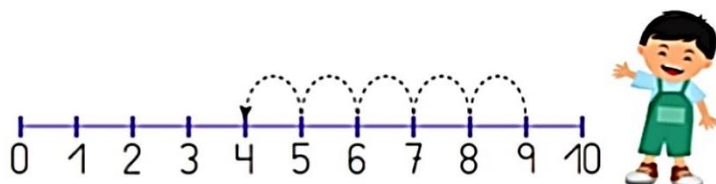
2- A seta na reta numérica abaixo, mostra onde está o ponteiro da balança de Marcos.



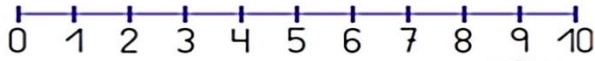
- Quantos quilos Marcos está pesando?

(A) 51kg (B) 53 kg (C) 57 kg (D) 70 kg

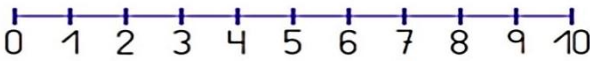
3- Resolva as operações nas retas numéricas a seguir:



$$9 - 5 = \square$$



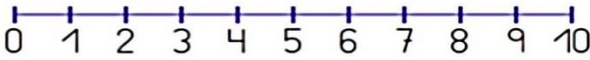
$6 - 1 = \square$



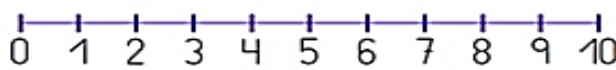
$10 - 3 = \square$



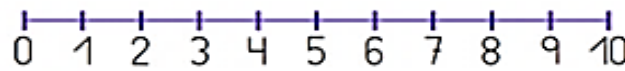
$8 - 2 = \square$



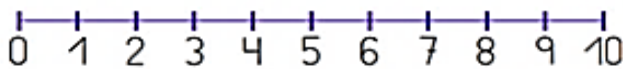
$7 - 4 = \square$



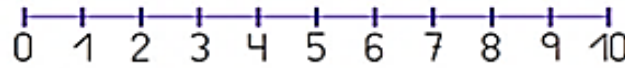
$3 + 4 = \square$



$6 + 2 = \square$

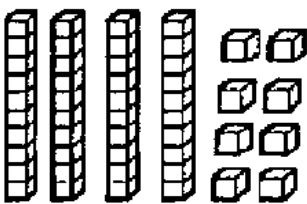


$2 + 3 = \square$



$7 + 1 = \square$

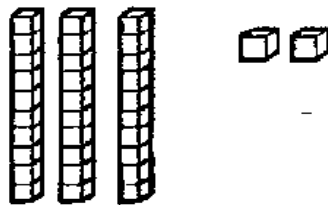
4- Pinte os números representados:



28

38


48



32

30

23



45

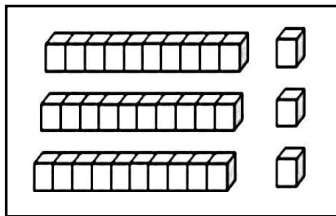
46

47

5- Continue como no modelo:

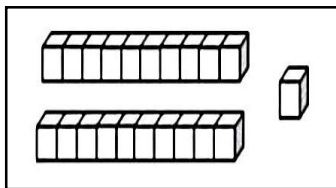
D

U

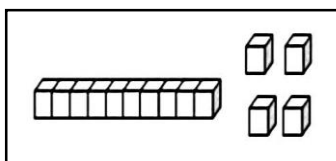


$$30 + 3 =$$

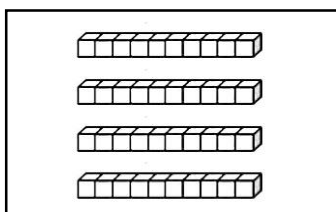
3	3
---	---



D	U



D	U



D	U

6- Elisa tem em sua coleção, 9 dezenas e meia de selos. Bianca tem o dobro dessa quantidade. Quantos selos têm as duas juntas?

CÁLCULO



RESPOSTA: _____

7- Igor comprou 2 dezenas e 6 unidades de balas para dividir entre ele e seus outros dois amigos. Quantas balas cada um recebeu? Quantas balas sobraram?

CÁLCULO



RESPOSTA: _____

8- Anastácia tem em sua feira 2 dezenas e 7 unidades de maçãs, 3 dezenas de pêssegos e 5 dezenas e 9 unidades de ameixas. Quantas frutas Anastácia têm ao todo?

CÁLCULO



RESPOSTA: _____

9- Paulo comprou 3 dezenas de meia de espigas de milho. Cozinhou 17 espigas. Quantas espigas sobraram?

CÁLCULO



RESPOSTA: _____

10- Vovô comprou 3 caixas de ovos. Em cada caixa havia 1 dezena e 2 unidades de ovos. Quantos ovos ele comprou ao todo?

CÁLCULO



RESPOSTA: _____