



MUNICÍPIO DE SANTO ANTÔNIO DE PÁDUA
SECRETARIA MUNICIPAL DE EDUCAÇÃO



Aluno: _____

Escola: _____

Data: ____/____/____

Ano de Escolaridade: 1º

Professor (a): _____

Disciplina: **Matemática**

Semana 36 : de 25 a 29 de outubro de 2021

Conteúdo(s) desenvolvido(s): noção de multiplicação (dobro e triplo)

Motive-se! Aprenda! Vídeo: <https://youtu.be/Pr0cQBcs3QI/> / https://youtu.be/d_rtWhsMDuA/

<https://youtu.be/BDhNAQaocVk>


DOBRO E TRIPLO

LUCIANA E PEDRO VÃO FAZER BRIGADEIRO, MAS ACHAM QUE UMA RECEITA É POUCO, ENTÃO, VÃO "DOBRAR" AS MEDIDAS E FAZER DUAS RECEITAS. 3 RECEITAS. AJUDE –OS A CALCULAR AS QUANTIDADES DE INGREDIENTES QUE IRÃO PRECISAR PARA FAZER DUAS OU SE PREFERIREM 3 RECEITAS.

BRIGADEIRO

Ingredientes:

- 1 lata de leite condensado
- 2 colheres (sopa) de margarina
- 2 colheres (sopa) de chocolate em pó
- Chocolate granulado para enfeitar



Preparo

Misture os ingredientes (menos o chocolate granulado) numa panela e leve ao fogo baixo mexendo sempre até aparecer o fundo da panela. Espere esfriar. Faça as bolinhas do tamanho que desejar, passe no chocolate granulado e arrume nas forminhas.

1) ANOTE NA TABELA QUANTO ELES VÃO PRECISAR PARA AS QUANTIDADES PEDIDAS.

INGREDIENTES	1 RECEITA	DOBRO	TRIPLO
leite condensado	1 lata		
chocolate em pó	2 colheres (sopa)		
margarina	2 colheres (sopa)		



O DOBRO



O dobro significa duas vezes.



2) OBSERVE COM ATENÇÃO.

O dobro de 7 reais é $2 \times 7 = 7 + 7 = 14$ reais.

AGORA, COMPLETE VOCÊ :

A) O DOBRO DE 6  É _____ X _____ = _____ + _____ = _____ 

B) O DOBRO DE 3  É _____ X _____ = _____ + _____ = _____ 

C) O DOBRO DE 9  É _____ X _____ = _____ + _____ = _____ 

3) OBSERVE:



QUAL É A IDADE DE GUILHERME ? _____ X _____ = _____

RESPOSTA : GUILHERME TEM _____ ANOS .

B) NUMA LANCHONETE, BRUNO GASTOU 4 REAIS. ISABELA GASTOU O DOBRO.

QUANTOS REAIS ELA GASTOU ?



_____ X _____ = _____

RESPOSTA: ISABELA GASTOU _____ REAIS.

O TRIPLO

O triplo significa três vezes.

1) DESENHE O TRIPLO DE QUADRINHOS NO QUADRO EM BRANCO .



2) VEJA : O TRIPLO DE 8 REAIS É $3 \times 8 = 8 + 8 + 8 = 24$ REAIS .

AGORA, COMPLETE :

A) O TRIPLO DE 4 PESSOAS É :

_____ X _____ = _____ + _____ + _____ = _____ PESSOAS.

C) O TRIPLO DE 9 FICHAS É :

_____ X _____ = _____ + _____ + _____ = _____ fichas .