

Aluno: _____

Escola: _____

Data: 25/10/2021





















Professoras : Nédma e Eronilza

Turmas 200 e 201

Disciplina: Matemática

TABUADA ILUSTRADA



		$2 \times 0 =$
		$2 \times 1 =$
		$2 \times 2 =$
		$2 \times 3 =$
		$2 \times 4 =$
		$2 \times 5 =$
		$2 \times 6 =$
		$2 \times 7 =$
		$2 \times 8 =$
		$2 \times 9 =$
		$2 \times 10 =$