



Aluno: _____
Escola: _____
Data: ____/____/____ Ano de Escolaridade: 2º
Professor (a): _____ Disciplina: Matemática

Semana 34: de 11 a 14 de Outubro de 2021

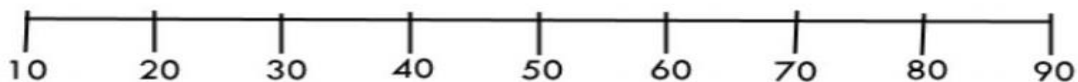
Conteúdo(s) desenvolvido(s): Números naturais até 499; Reta numérica; Composição e decomposição.

Motive-se! Aprenda! Vídeo: <https://youtu.be/FNzSodrREpY>
<https://youtu.be/I1kk6XrhxnM>

Reta numérica



1- Observe a reta numérica.




2- De acordo com a reta numérica, escreva a dezena mais próxima de:

- a) 18 _____ b) 62 _____ c) 58 _____
d) 29 _____ e) 41 _____ f) 8 _____

3- Pense e responda:

- a) de 6 para 10 faltam
b) de 4 para 14 faltam
c) de 5 para 12 faltam
d) 8 para 15 faltam
e) de 6 para 12 faltam
f) de 3 para 9 faltam
g) de 2 para 20 faltam
h) de 9 para 11 faltam



COMPOSIÇÃO E DECOMPOSIÇÃO

Qual é o número?

1- Duzentos e sessenta e um.

2- 6 centenas, 2 dezenas e 7 unidades.

3- $300 + 10 + 5$.

4- 5 unidades de milhar, 4 centenas, 3 dezenas e 1 unidade.

5- $100 + 50 + 4$.



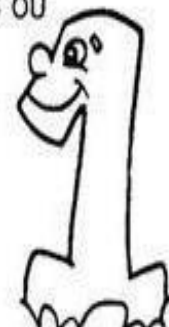
Complete com atenção:

• No cinema da cidade de Salvador cabem 548 pessoas.

1- 5 4 8 \longrightarrow _____ unidades
 \longrightarrow _____ dezenas ou _____ unidades
 \longrightarrow _____ centenas ou _____ dezenas ou _____ unidades

• Na escola João Fernandes foram matriculados 1.237 alunos.

2- 1 2 3 7 \longrightarrow _____ unidades
 \longrightarrow _____ dezenas ou _____ unidades
 \longrightarrow _____ centenas ou _____ dezenas ou _____ unidades
 \longrightarrow _____ unidade de milhar ou _____ centenas ou _____ dezenas ou _____ unidades



3) COMPLETE A TABELA ABAIXO COM OS NUMERAIS FALTOSOS.

201		203		205		207		209	
	212		214		216		218		220
221		223		225		227		229	
	232		234		236		238		240
		243				247			
	252		254		256		258		260
		263		265		267		269	
271			274		276		278		280
	282			285				289	
291		293			296				