




Aluno: _____
Escola: Escola Municipalizada Deputado Armindo Marcílio Doutel de Andrade
Data: ____/____/____ EJA Ano de Escolaridade: **Fases: I a III**
Professor (a): **Gerlane Almeida** Disciplina: **Matemática**

1- Observe a tabela de preços e responda. Não esqueça de armar as continhas:

 65 reais	 78 reais	 57 reais
---	---	---

a) Fábio comprou o carrinho e a bola. Quantos reais ele gastou?

D	U

Resposta: Fábio gastou _____ reais.

b) Lúcia tinha 80 reais e comprou uma boneca. Quantos reais sobrou de troco?

D	U

Resposta: Sobrou de troco _____ reais.

2- Escreva por extenso os nomes dos números que correspondem o valor de cada brinquedo:

carrinho _____

boneca _____

bola _____

3- Complete a sequência numérica:

189		191	192	193		195	196	197		
-----	--	-----	-----	-----	--	-----	-----	-----	--	--