

Aluno: _____

Escola: _____

Data: ____/____/____

Ano de Escolaridade: 2º

Professor (a): Gerlane Almeida e Marinízia Soares

Disciplina: Matemática

Semana 32: de 27 de setembro a 01 de outubro de 2021

Conteúdo(s) desenvolvido(s): Dobro, triplo, adição e subtração

Motive-se! Aprenda! Vídeo: <https://youtu.be/Pr0cQBcs3QI>

2 vezes ou o dobro

1 Observe as crianças juntando materiais recicláveis.



- Quantas latinhas de suco Marina juntou?




Adição ▶ $4 + 4 = \underline{\quad}$

Multiplicação ▶ $2 \times \underline{\quad} = \underline{\quad}$

Marina juntou _____ latinhas de suco.

Calcular **duas vezes** um número é o mesmo que encontrar o **dobro** desse número.

2 Desenhe em cada quadro o dobro da quantidade de figuras em cada caso



3- REPRESENTE CADA MULTIPLICAÇÃO COM DESENHOS DE BOLINHAS. SIGA O EXEMPLO:

$$2 \times 5 = 10$$



$$2 \times 4 = 8$$



$$3 \times 4 = 12$$




$$4 \times 2 = 8$$



3 vezes ou o triplo

4- Observe a cena a seguir e, depois, complete os cálculos.
Carlos é vendedor em uma loja.



- Quantos ventiladores Carlos espera vender no sábado?

Adição ▶ $5 + 5 + 5 = \dots$



Multiplicação ▶ $3 \times \dots = \dots$

Carlos espera vender \dots ventiladores no sábado.


Calcular **três vezes** um número é o mesmo que encontrar o **triplo** desse número.

5- Pinte o triplo da quantidade indicada em cada caso.

a)



b)



6- RESOLVA O PROBLEMINHA:


A) FÁBIO TEM 4 CARRINHOS E SEU PRIMO LUCAS TEM O TRIPLO DESSA QUANTIDADE. QUANTOS CARRINHOS LUCAS TEM?

$$\square \times \square = \square$$

RESPOSTA: LUCAS TEM _____ CARRINHOS.



7- OBSERVE A TABELA DE PREÇOS E RESPONDA. NÃO ESQUEÇA DE ARMAR AS CONTINHAS:

 65 REAIS	 78 REAIS	 57 REAIS
---	---	---

A) FÁBIO COMPROU O CARRINHO E A BOLA. QUANTOS REAIS ELE GASTOU?

D	U

Resposta: Fábio gastou _____ reais.

B) LÚCIA TINHA 80 REAIS E COMPROU UMA BONECA. QUANTOS REAIS SOBROU DE TROCO?

D	U

Resposta: Sobrou de troco _____ reais.

8- ESCREVA POR EXTENSO OS NOMES DOS NÚMEROS QUE CORRESPONDEM O VALOR DE CADA BRINQUEDO:

CARRINHO _____

BONECA _____

BOLA _____

9- COMPLETE A SEQUÊNCIA NUMÉRICA:

189		191	192	193		195	196	197		
-----	--	-----	-----	-----	--	-----	-----	-----	--	--