

Aluno: _____

Escola: _____

Data: ___/___/___

Ano de Escolaridade: **2º ANO**

Professor (a): _____ Disciplina: **Matemática**

Semana 27: de 23 a 27 de agosto de 2021

Conteúdo(s) desenvolvido(s): NÚMEROS NATURAIS DE 100 A 200; ADIÇÃO COM RESERVA E SUBTRAÇÃO COM RECURSO; SISTEMA MONETÁRIO.

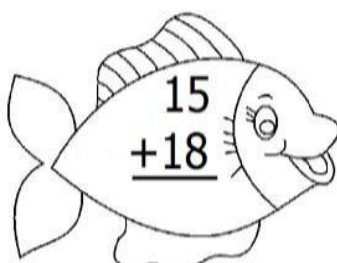
Motive-se! Aprenda! Vídeo: <https://youtu.be/BxBZnDGsOhc>
<https://youtu.be/NEpE3Cb24Y>
<https://youtu.be/lKknX2mYyJg>

1- COMPLETE A TABELA COM OS NUMERAIS DE 100 A 200.

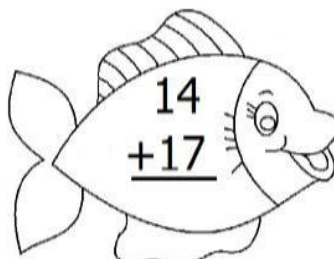
100			103					109
	111						117	
					125			
		132						
140								
			153					159
				164				
					175			
						186		
190							197	

2 - EFETUE AS OPERAÇÕES ABAIXO:

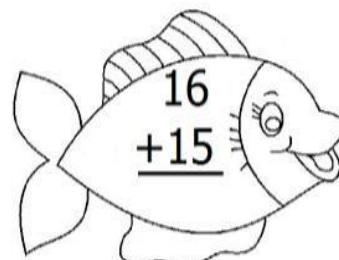
ADIÇÃO COM RESERVA



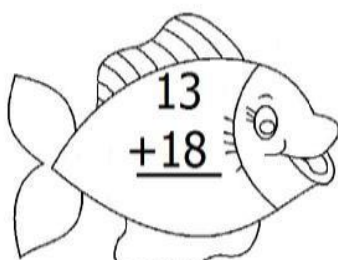
$$\begin{array}{r} 15 \\ +18 \\ \hline \end{array}$$



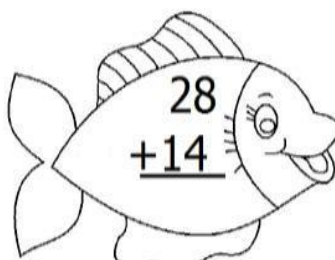
$$\begin{array}{r} 14 \\ +17 \\ \hline \end{array}$$



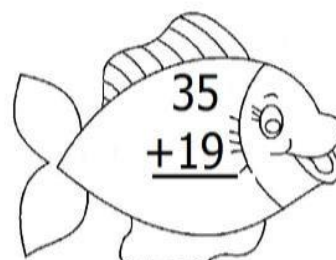
$$\begin{array}{r} 16 \\ +15 \\ \hline \end{array}$$



$$\begin{array}{r} 13 \\ +18 \\ \hline \end{array}$$

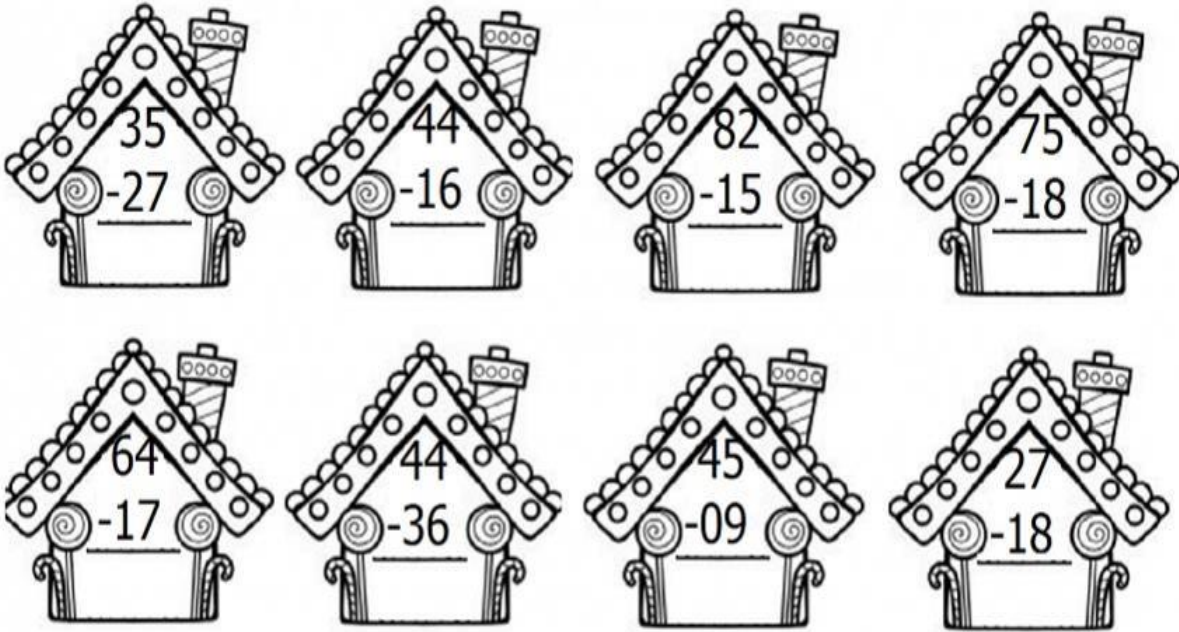


$$\begin{array}{r} 28 \\ +14 \\ \hline \end{array}$$



$$\begin{array}{r} 35 \\ +19 \\ \hline \end{array}$$

SUBTRAÇÃO COM REAGRUPAMENTO



SISTEMA MONETÁRIO BRASILEIRO

É PRECISO TER DINHEIRO PARA SE COMPRAR ALGUMA COISA.
NO BRASIL, A MOEDA QUE USAMOS É O REAL.
O SÍMBOLO DO REAL É O R\$.

ESSAS SÃO AS MOEDAS QUE UTILIZAMOS E SEUS VALORES:

ESSAS SÃO AS CÉDULAS QUE UTILIZAMOS E SEUS VALORES:





NA LOJA PERTO DA CASA DA MÔNICA, VENDE MÁSCARAS DE PROTEÇÃO. VEJA OS PREÇOS NA TABELA E RESPONDA AS PERGUNTAS A SEGUIR.

TABELA DE PREÇOS

 MÁSCARA DA MÔNICA	
 MÁSCARA DO BIDU	
 MÁSCARA DO CEBOLINHA	

A) QUAL A MÁSCARA DE MAIOR VALOR?

RESPOSTA: _____

B) QUAL A MÁSCARA DE MENOR VALOR?

RESPOSTA: _____

C) A MÔNICA COMPROU UMA MÁSCARA DO **CEBOLINHA** E UMA MÁSCARA DO **BIDU**. QUAL O VALOR QUE IRÁ PAGAR NA COMPRA DAS MÁSCARAS? MARQUE COM UM (X) A RESPOSTA CORRETA.

() R\$9,00

() R\$ 5,00

() R\$10,00