



Aluno: _____

Escola: _____

Data: ____/____/____

Ano de Escolaridade: 1º

Professor (a): _____

Disciplina: Matemática


Semana 28: 30 de Agosto a 03 de Setembro de 2021

Conteúdo(s) desenvolvido(s): Sequência numérica até 70, figuras geométricas planas; adição, maior, menor, igual; números por extenso

Motive-se! Aprenda! Vídeo: <https://youtu.be/UIR-xOZQxdI/> <https://youtu.be/xAAM7CgJUDc>
<https://youtu.be/Zwf6PIRhL8A>

1) COMPLETE A SEQUÊNCIA NUMÉRICA COM OS NÚMEROS ATÉ 70.


1		3		5		7	8		
11	12		14		16		18		20
21		23		25		27		29	
	32		34		36		38		40
41				45		47		49	
	52		54		56		58		60
		63				67		69	



2) COLORIR, NOS QUADRINHOS, O NÚMERO PEDIDO POR CADA UMA DAS CRIANÇAS ABAIXO.

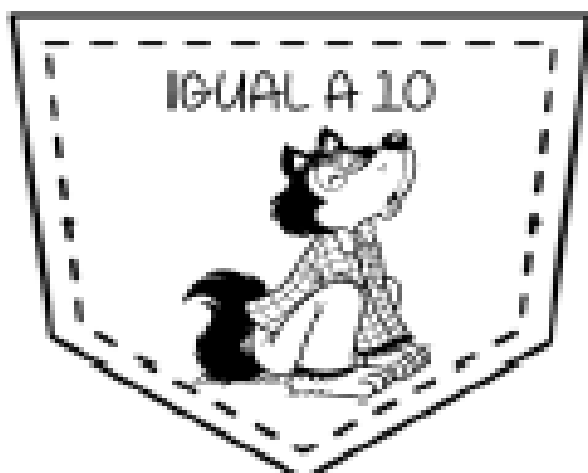


3) OBSERVE OS DESENHOS E PINTE AS FORMAS COM AS QUAIS SE PARECEM.



4) RESOLVA AS ADIÇÕES E DEPOIS COLOQUE – AS NOS BOLSINHOS DOS PERSONAGENS DO FOLCLORE DE ACORDO COM OS RESULTADOS.

♥ ADIÇÃO FOLCLÓRICA ♥



$$\begin{array}{r} \square \\ 8 \\ + 1 \\ \hline \end{array}$$

$$\begin{array}{r} \square \\ 10 \\ + 2 \\ \hline \end{array}$$

$$\begin{array}{r} \square \\ 5 \\ + 2 \\ \hline \end{array}$$

$$\begin{array}{r} \square \\ 5 \\ + 5 \\ \hline \end{array}$$

$$\begin{array}{r} \square \\ 7 \\ + 2 \\ \hline \end{array}$$

$$\begin{array}{r} \square \\ 9 \\ + 3 \\ \hline \end{array}$$

$$\begin{array}{r} \square \\ 6 \\ + 4 \\ \hline \end{array}$$

$$\begin{array}{r} \square \\ 12 \\ + 2 \\ \hline \end{array}$$

$$\begin{array}{r} \square \\ 3 \\ + 7 \\ \hline \end{array}$$

$$\begin{array}{r} \square \\ 0 \\ + 1 \\ \hline \end{array}$$