

Aluno: _____

Escola: _____

Data: _____ Ano de Escolaridade: **FASE VII**

Professora: **Priscila Gregório** Disciplina: **Matemática e Geometria**

Semana 03: de 09 a 13 de agosto de 2021

Conteúdo(s) desenvolvido(s): Números inteiros.

Números negativos e números positivos

Em algumas situações do cotidiano podem aparecer números positivos e negativos.

Exemplos:

- Em noticiários que anunciam temperaturas abaixo de zero;
- Nas embalagens de produtos congelados;
- Nos extratos de contas bancárias;
- Em gráficos estatísticos;
- Etc.

Exercícios


1. Escreva o que cada uma das figuras abaixo representa para você:



<http://portalcoroado.com.br/home/wp-content/uploads/2018/05/24370616.jpg>



<https://www.papodebar.com/wp-content/uploads/2014/04/Cervejeira-Consul-Mais-temperatura.jpg>



Saldo em conta **Ocultar**

R\$ - 187,66

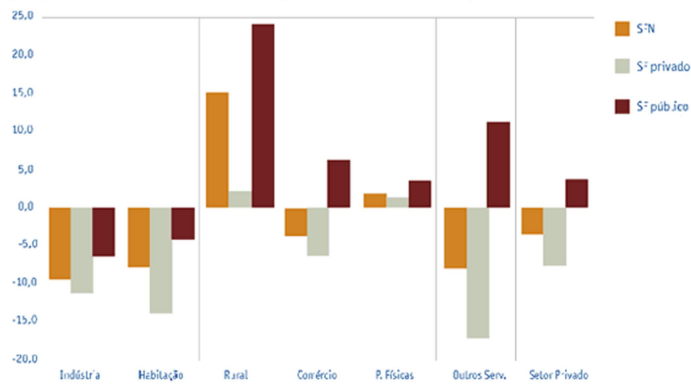
Extrato

Transferências

Pagamentos

<https://imagens.canaltech.com.br/250169.489623-Banco-Inter.jpg>

Varição percentual do saldo das operações de crédito por atividade econômica

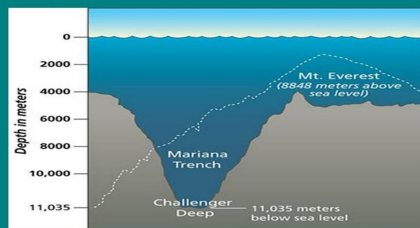


Fonte: Banco Central do Brasil, dados atualizados pelo IPCA

NÚMEROS NEGATIVOS

EXEMPLOS:

A fossa das Marianas, localizada no centro do Pacífico, possui 11000m de profundidade em relação ao nível do mar. Esse é o ponto mais profundo do nosso planeta Terra.



<http://slideplayer.com.br/slide/352766/2/images/8/N%C3%9AMEROS+NEGATIVOS+EXEMPLOS:.jpg>

Confio no seu potencial!