

Aluno: _____

Escola: _____

Data: ___/___/___ Atividade Adaptada Ano de Escolaridade: ____

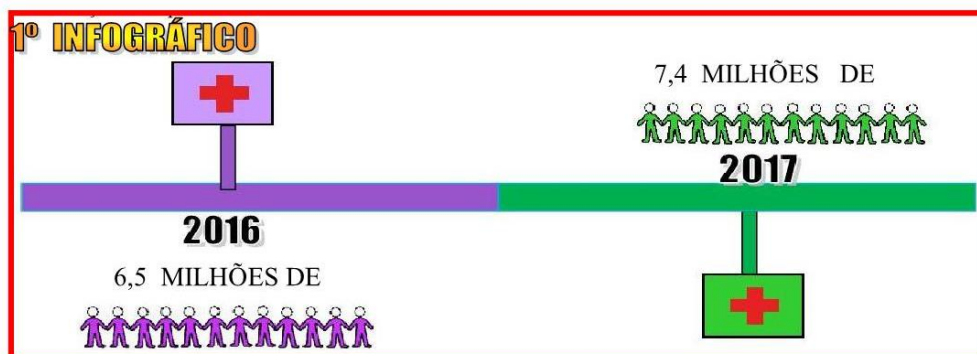
Professor (a): _____ Disciplina: Matemática

HABILIDADE: Identificar e localizar informações explícitas e implícitas em infográficos e gráficos divulgados pela mídia.

Estudos de Gráficos:

1. (ADAPTADA SEDUC-SP, 2020): Observe os três infográficos abaixo, eles retratam a situação do trabalho voluntário no Brasil em 2016 e 2017. Responda as perguntas:

PESSOAS DE 14 ANOS OU MAIS QUE REALIZARAM TRABALHO VOLUNTÁRIO:



a) Complete o texto conforme os dados do infográfico:

Nos anos de _____ e _____ pessoas acima de 14 anos realizaram trabalhos voluntários. No ano de 2016 foram _____ milhões de pessoas e em 2017 foram _____ milhões de pessoas.

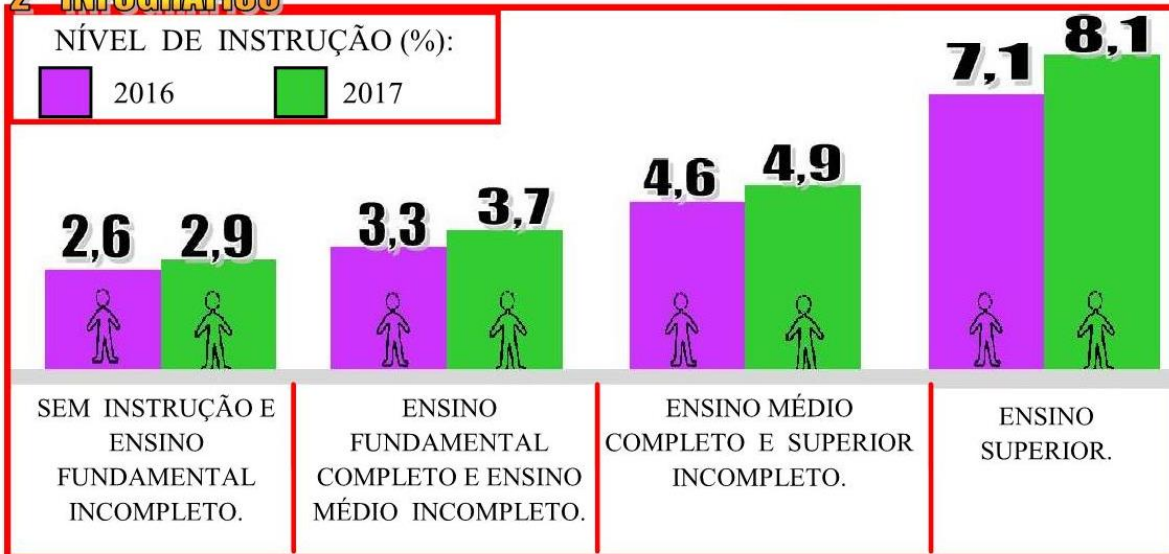
b) A diferença de 2017 para 2016 foram de _____ milhões de pessoas.

OPERAÇÃO:

$$\begin{array}{r} 7,4 \\ - 6,9 \\ \hline \end{array}$$

Infográfico adaptado: PNAD Contínua 2017: agenciadenoticias.ibge.gov.br/agencia-noticias/2012-agencia-de-noticias/noticias/20913-voluntariado-aumentou-em-840-mil-pessoas-em-2017

2º INFOGRÁFICO

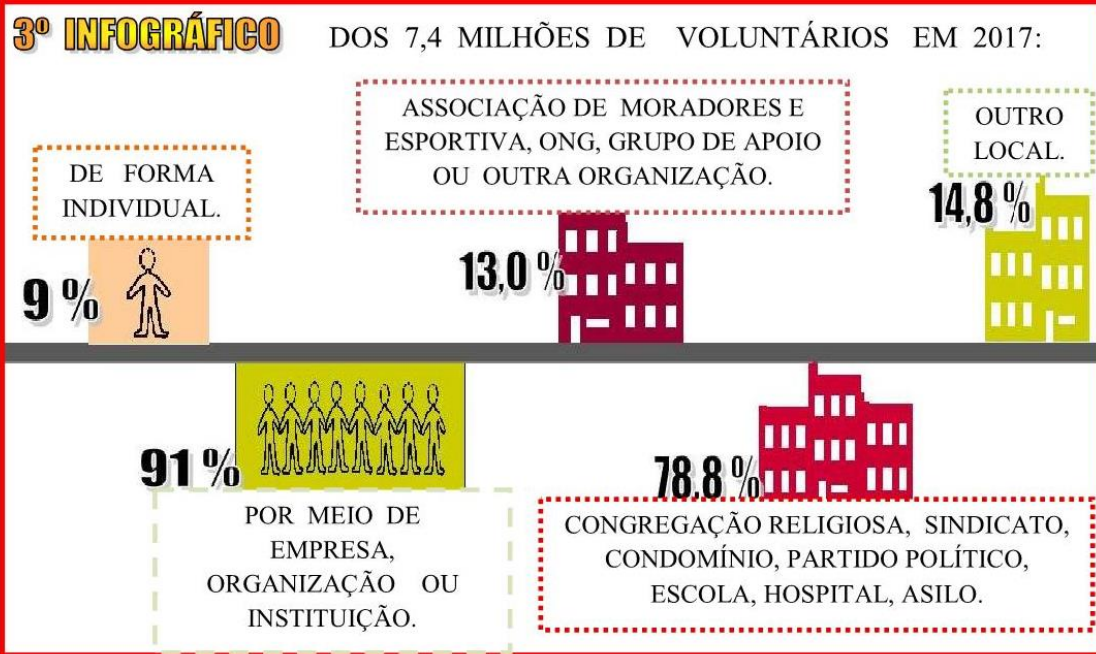


c) Preencha a tabela com os dados do nível de instrução (%) em porcentagem de cada ano:

NÍVEL DE INSTRUÇÃO (%)	2016	2017
SEM INSTRUÇÃO E ENSINO FUNDAMENTAL INCOMPLETO.		
ENSINO FUNDAMENTAL COMPLETO E MÉDIO INCOMPLETO.		
ENSINO MÉDIO COMPLETO E SUPERIOR INCOMPLETO.		
SUPERIOR COMPLETO.		

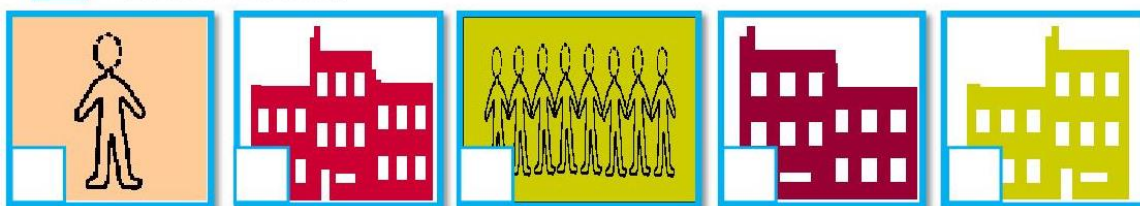
d) Qual nível de instrução que você se encontra hoje? _____

Infográfico adaptado: PNAD Contínua 2017: agenciadenoticias.ibge.gov.br/agencia-noticias/2012-agencia-de-noticias/noticias/20913-voluntariado-aumentou-em-840-mil-pessoas-em-2017



e) Correlacione as informações do infográfico com as imagens correspondentes:

- 1 DE FORMA INDIVIDUAL.
- 2 POR MEIO DE EMPRESA, ORGANIZAÇÃO OU INSTITUIÇÃO.
- 3 ASSOCIAÇÃO DE MORADORES E ESPORTIVA, ONG, GRUPO DE APOIO OU OUTRA ORGANIZAÇÃO.
- 4 CONGREGAÇÃO RELIGIOSA, SINDICATO, CONDOMÍNIO, PARTIDO POLÍTICO, ESCOLA, HOSPITAL, ASILO.
- 5 OUTRO LOCAL.



Infográfico adaptado: PNAD Contínua 2017: agenciadenoticias.ibge.gov.br/agencia-noticias/2012-agencia-de-noticias/noticias/20913-voluntariado-aumentou-em-840-mil-pessoas-em-2017 e Software Boardmaker.

f) Complete as figuras do infográfico com o valor da porcentagem (%) de cada um:



g) (ADAPTADA SEDUC-SP, 2020): Carlos fez uma pesquisa com 200 alunos de sua escola para verificar o tipo de esporte preferido por eles. O resultado obtido esta representado no gráfico de setores abaixo:



a) Este gráfico parece com uma:

- TRIÂNGULO
- PIZZA
- CILINDRO

b) Olhando para o gráfico podemos dizer que a parte maior de preferências esportivas é a cor _____ e a menor é a cor _____.

c) Relacione as porcentagens com o tipo de esporte conforme as informações do gráfico de pizza:

1 18 % 2 5 % 3 27 % 4 50 %

FUTEBOL OUTROS HANDEBOL VOLEI

Disponível em: SÃO PAULO. Secretaria Estadual de Educação. SP FAZ ESCOLA. 9º ano do E.F. Vol. 3 Bim. 2020 e Software Boardmaker.