



GOVERNO DO ESTADO DO RIO DE JANEIRO
MUNICÍPIO DE SANTO ANTÔNIO DE PÁDUA
SECRETARIA MUNICIPAL DE EDUCAÇÃO



Aluno: _____
Escola: _____
Data: ____/____/____ Ano de Escolaridade: 3º
Professor (a): _____ Disciplina: Matemática

Semana 25: de 09 a 13 de agosto de 2021

Conteúdo(s) desenvolvido(s): Numerais naturais de (0 a 1000); composição e decomposição, multiplicação por 4 com reserva











Motive-se! Aprenda! Vídeo:

<https://www.youtube.com/watch?v=iWQlOmQztSc>

https://www.youtube.com/watch?v=rLuoV-9_ETU

1) Complete a tabela abaixo:

Número	Dezenas e unidades	Decomposição	Leitura
249	2 centenas , 4 dezenas e nove unidades	_____	_____ _____
35	_____ _____	_____	_____ _____
987	_____ _____	_____	Novecentos e oitenta e sete
635	_____ _____	600+30+5	_____ _____


Tabuada do 4										Nº car-ros	Nº de rodas de cada carro	Adição do número de rodas	Multiplica-ção	Nº total de rodas
										1	4	4	1X4	4
										2	4	4+4	2X4	8
										3	4	4+4+4	3X4	12
										4	4	4+4+4+4	4X4	16
										5	4	4+4+4+4+4	5X4	20
										6	4	4+4+4+4+4+4	6X4	24
										7	4	4+4+4+4+4+4+4	7X4	28
										8	4	4+4+4+4+4+4+4+4	8X4	32
										9	4	4+4+4+4+4+4+4+4+4	9X4	36
										10	4	4+4+4+4+4+4+4+4+4+4	10X4	40

2) Um álbum de figurinhas tem 36 páginas com 4 espaços para figurinhas em cada uma. Quantas figurinhas cabem no álbum?

R.: _____ Cálculo



3) Um prédio tem 30 andares, tem 4 apartamentos por andar. Quantos apartamentos existem no prédio?



R.: _____

Cálculo

4) Em uma livraria há 4 prateleiras com 253 livros em cada uma. Quantos livros há em toda a livraria?

R.: _____ Cálculo

