

Aluno (a): \_\_\_\_\_

Escola: \_\_\_\_\_

Data: \_\_\_\_/\_\_\_\_/\_\_\_\_ Ano de Escolaridade: **5º ano**

Disciplina: **Matemática**

Professor (a) \_\_\_\_\_

## Semana 24: de 02 a 06 de agosto de 2021

**Conteúdo(s) desenvolvido(s):** Números naturais de 10.000.000 a 99.999.999;

Reta numérica;

Antecessor e sucessor.

**Motive-se! Aprenda!** <https://youtu.be/eBO52ZyR8Lk> ;  
<https://youtu.be/gL557DwWLNQ> ;  
[https://youtu.be/cp3x8VY8\\_e4](https://youtu.be/cp3x8VY8_e4) .

1- Complete o quadro de ordens e classes:



	CLASSE DOS MILHÕES			CLASSE DAS UNIDADES DE MILHAR			CLASSE DAS UNIDADES SIMPLES		
	CM	DM	UM	CM	DM	UM	C	D	U
	9ª ORDEM	8ª ORDEM	7ª ORDEM	6ª ORDEM	5ª ORDEM	4ª ORDEM	3ª ORDEM	2ª ORDEM	1ª ORDEM
12.724.980									
56.375.229									
683.381									
7.473									
3.651.760									
91.425									
99.432.700									
573;740									
879									

2-Escreva por extenso os números abaixo:

a) 18.785 \_\_\_\_\_

b) 23.820.451 \_\_\_\_\_

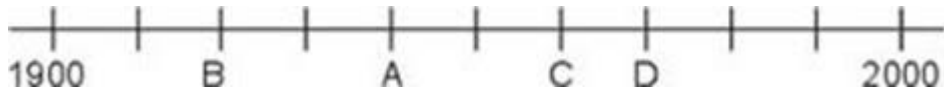
c) 232.827 \_\_\_\_\_

d) 5.539 \_\_\_\_\_

e) 50.793 \_\_\_\_\_

f) 5.706.563 \_\_\_\_\_

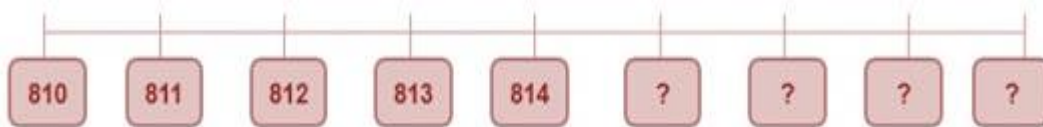
3- Observe a reta numérica abaixo e responda à questão:



O número de 1960 está sendo representado pela letra:

- a) A.
- b) B.
- c) C.
- d) D.


4- Observe a sequência de números abaixo em uma reta numérica:



Os números que completam os quadros na reta são:

- a) 815-816-817-818.
- b) 816-817-818-819
- c) 817-818-819-820
- d) 818-819-820-821

5- Observe a reta numérica abaixo:



A letra C na reta numérica representa o número:

- a) 50.000
- b) 55.000
- c) 60.000
- d) 80.000

6- O antecessor e o sucessor do número 409.999 são, respectivamente:

- a) 409.996 e 410.000
- b) 409.997 e 411.000
- c) 409.998 e 410.000
- d) 409.999 e 410.100

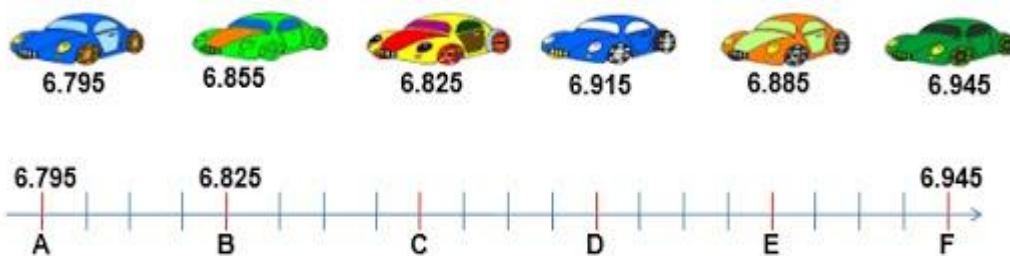
7- Uma estudante fez sua linha de tempo representada em uma reta numérica. O ponto de interrogação representa o ano que a estudante nasceu. Observe:

Em que ano ela nasceu?

- a) 1.999
- b) 2.000
- c) 2.001
- d) 2.002



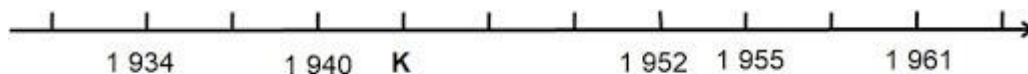
8- Observe a imagem abaixo:



O carro 6.795 está marcado com a letra A. A letra B corresponde ao carro 6.825. Qual é a letra, na reta numérica, que faz a correspondência com o carro 6.885?

- a) B
- b) C
- c) D
- d) F


9- Observe a reta numérica abaixo:



A letra K representa o número

- a) 1937.
- b) 1942.
- c) 1943.
- d) 1945.

10- Máisa mora num bairro de Fortaleza e o número de casas existentes tem a mesma distância. Ela tem alguns amigos que moram na mesma rua e são indicadas pelas letras Q, W e Y.



Quais são os números das casas onde moram seus amigos?

- a) 533, 549 e 573
- b) 534, 550 e 574
- c) 535, 551 e 575
- d) 536, 552 e 576

## SUCESOR E ANTECESSOR

- Qual o sucessor de 101
- Qual o antecessor de 36
- Qual o antecessor de 48
- Qual o sucessor de 0
- Qual o antecessor de 658
- Qual o sucessor de 365
- Qual o sucessor de 3002

- Qual o sucessor de 658
- Qual o antecessor de 147
- Qual o antecessor de 111
- Qual o sucessor de 54
- Qual o antecessor de 369
- Qual o sucessor de 478
- Qual o sucessor de 789