

Aluno: \_\_\_\_\_

Escola: \_\_\_\_\_

Data: \_\_\_/\_\_\_/\_\_\_

Ano de Escolaridade: 2º

Professoras: Gerlane Almeida e Marinízia Soares

Disciplina: **Matemática**

## Semana 23: de 12 a 16 de julho de 2021

**Conteúdo(s) desenvolvido(s) Situações problema envolvendo adição; subtração e sólidos geométricos.**

**Motive-se! Aprenda!** Vídeo: [https://youtu.be/\\_gEm11EDh5U](https://youtu.be/_gEm11EDh5U)

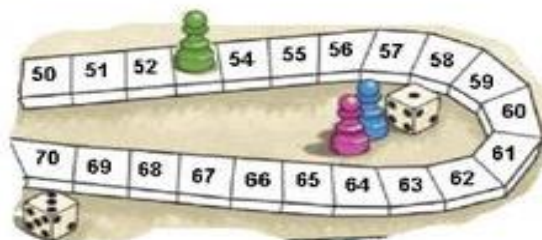
### ATIVIDADES

1) RESOLVA AS SITUAÇÕES PROBLEMAS ABAIXO. LEMBRE-SE: CADA PONTO VALE 1 CASA.

- a) O peão de Jeremias estava na casa 53. Ele jogou os dados e fez 12 pontos, para qual casa ele vai?

D	U

R: Jeremias vai para casa \_\_\_\_\_.



- b) Nathan fez 10 pontos e estava com o peão na casa 78. Em qual casa ele deve colocar o peão agora?

D	U

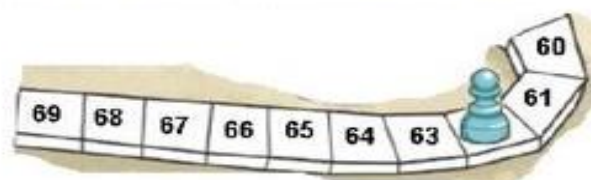
R: Ele deve colocar o peão na casa \_\_\_\_\_.



- c) Pedro fez 2 pontos e o peão foi para a casa 62. Em qual casa o peão estava antes?

D	U

R: O peão estava na casa \_\_\_\_\_.



- d) Maria fez 12 pontos e o peão estava na casa 77. Para qual casa o peão foi?

D	U

R: O peão foi para a casa \_\_\_\_\_.



2) RESOLVA AS SUBTRAÇÕES ABAIXO.

😊	😊	😊	😊
$92$ $-31$ -----	$57$ $-12$ -----	$68$ $-22$ -----	$88$ $-54$ -----

😊	😊	😊	😊
$38$ $-13$ -----	$47$ $-17$ -----	$62$ $-41$ -----	$99$ $-78$ -----

😊	😊	😊	😊
$97$ $-36$ -----	$46$ $-23$ -----	$68$ $-54$ -----	$87$ $-36$ -----

3) AJUDE XAVECO A PINTAR O RESULTADO CORRETO DE CADA ADIÇÃO.



$9+3$	13	12	16	15	20
$10+8$	16	20	18	14	19
$9+6$	15	14	12	10	21
$14+7$	16	21	18	25	30
$20+2$	25	17	22	19	29
$12+1$	15	25	13	25	14

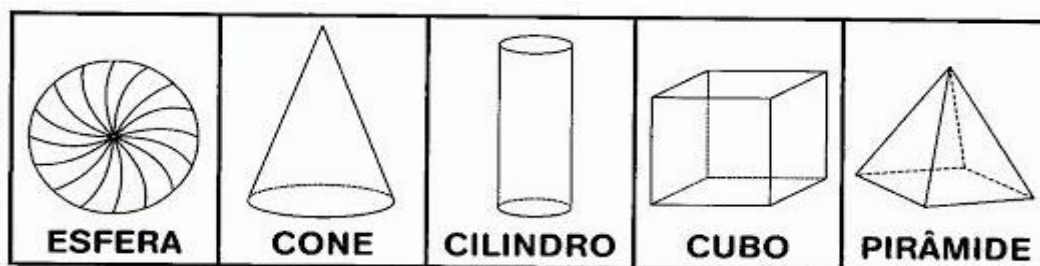
◆ QUAL MAIOR RESULTADO ENCONTRADO?

\_\_\_\_\_

◆ QUAL MENOR RESULTADO ENCONTRADO?

\_\_\_\_\_

4) PROCURE NO CAÇA-PALAVRAS OS NOMES DOS SÓLIDOS GEOMÉTRICOS. VEJA O QUADRO ABAIXO PARA RECORDAR.



5) CAPRICHE NA PINTURA DO TRENZINHO, SEGUINDO A LEGENDA.

