

Aluno: _____

Escola: _____

Data: ___/___/___

Ano de Escolaridade: **1º Ano**

Professor (a): _____

Disciplina: **MATEMÁTICA**


Semana 23: de 12 a 16 de julho de 2021



Conteúdo(s) desenvolvido(s): Números naturais até 49, sequência numérica, adição, subtração, resolução de problemas e sólidos geométricos.



ATIVIDADES



Motive-se! Aprenda! Vídeo: <https://youtu.be/ChsBA5hnuc?list=TLPQMTUwNjJwMjFomwanSoep6A>
<https://youtu.be/c0sVQxlHSI4?list=TLPQMTUwNjJwMjFomwanSoep6A> / <https://youtu.be/9VaKqNXMsz4>

1- ACOMPANHE A LEITURA COM O DEDINHO, PINTE E CIRCULE O NUMERAL:

NA RUA 24 

1  A MULHER MATOU UM SAPO
COM A SOLA DO SAPATO 

2  O SAPATO ESTREMECEU
A MULHER MORREU
O CULPADO NÃO FUI EU 


3  URUBU-BU-BU
QUEM NÃO SAI É O TATU 

2- A PARLENDA ACIMA POSSUI TRÊS ESTROFES. CONTE E ESCREVA O NÚMERO QUE REPRESENTA A QUANTIDADE DE PALAVRAS DE CADA ESTROFE.

1º ESTROFE	2º ESTROFE	3º ESTROFE











3- ESCREVA O NÚMERO DA RUA CITADO NA PARLENDA E REPRESENTA A QUANTIDADE.











NÚMERO




QUANTIDADE

4- OBSERVE, IDENTIFIQUE E COMPLETE A LEGENDA ABAIXO COM OS NÚMEROS QUE FALTAM.


1	2	3		5	6	7	
9	10	11	12		14	15	16
	18	19		21	22	23	
25		27	28	29		31	32
33	34		36	37	38		40

	<input type="text"/>		<input type="text"/>		<input type="text"/>		<input type="text"/>		<input type="text"/>
	<input type="text"/>		<input type="text"/>		<input type="text"/>		<input type="text"/>		<input type="text"/>




5- AGORA PESQUISE E COMPLETE A SEQUÊNCIA NUMÉRICA.

0	1	2							
10									
20									
30									
40									




6- LEIA COM ATENÇÃO E RESOLVA OS PROBLEMINHAS.

PROBLEMA	ILUSTRAÇÃO	CÁLCULO E RESPOSTA
<p>A) LUCAS E MATHEUS COMPRARAM FOLHAS DE SEDA PARA FAZER BANDEIRINHAS PARA A FESTA JUNINA. LUCAS COMPROU 9 FOLHAS E MATHEUS COMPROU 8 FOLHAS. QUANTAS FOLHAS DE PAPEL DE SEDA ELES COMPRARAM JUNTOS?</p>		

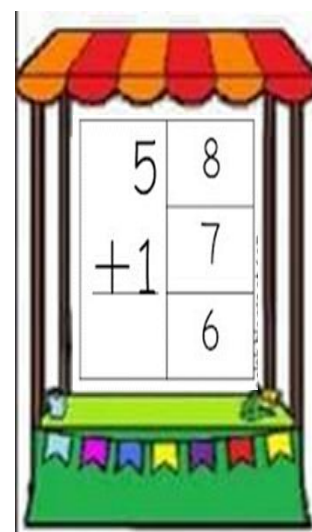
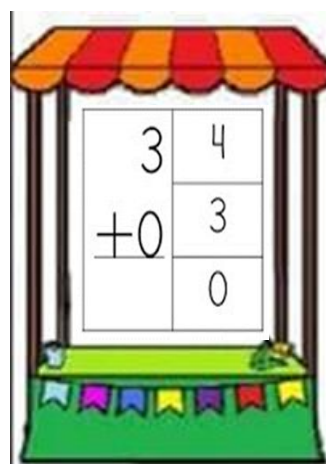
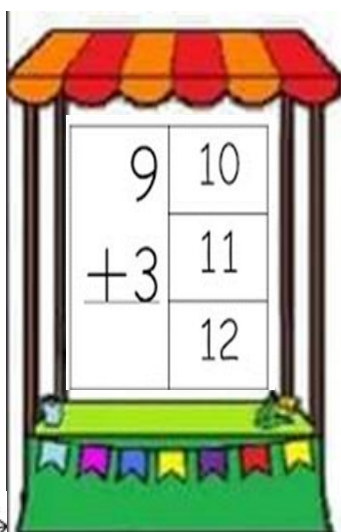
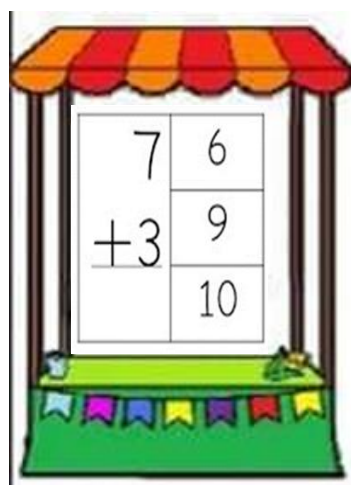


PROBLEMA	ILUSTRAÇÃO	CÁLCULO E RESPOSTA
B) NA BANDEJA DE PÉS DE MOLEQUE, ESTÃO 18 DOCES. JOÃO COMEU 4. QUANTOS PÉS DE MOLEQUE SOBRARAM NA BANDEJA?		



PROBLEMA	ILUSTRAÇÃO	CÁLCULO E RESPOSTA
C) NUMA PRACINHA, HÁ 8 BALANÇOS 9 CRIANCINHAS PARA CADA UM PODER BRINCAR QUANTOS BALANÇOS IRÃO FALTAR? (LUCIENE)		

7- OBSERVE O SINAL, FAÇA A OPERAÇÃO E DEPOIS PINTE O RESULTADO.



8- O MUNDO ESTÁ CHEIO DE FORMAS. VAMOS CONHECER ALGUMAS DELAS?

SÓLIDOS GEOMÉTRICOS

SÃO FIGURAS GEOMÉTRICAS TRIDIMENSIONAIS, OU SEJA, TEM TRÊS DIMENSÕES:

LARGURA, ALTURA E COMPRIMENTO.



ESFERA



CONE



CILINDRO



CUBO



PIRÂMIDE



PRISMA



PARALELEPÍPEDO

9- OBSERVE CADA OBJETO E LIGUE-O À FORMA CORRESPONDENTE



ESPAÇO DE LIVRE EXPRESSÃO (DESENHE OU ESCREVA)

REFERÊNCIAS BIBLIOGRÁFICAS: www.artedeensinareaprender.com / www.profrafaelblogspot.com / www.@professoranayarah / WWW.profrafaelblogspot.com <https://www.google.com/url?sa=i&url=https%3A%2F%2Fblog.ideiasepalavras.com.br%2Fatividade-festa-junina%2F&psig=AOvVaw0HcSMc3qh>