

Aluno: _____

Escola: _____

Data: 22/06/2021

Ano de Escolaridade: Fase: I a III


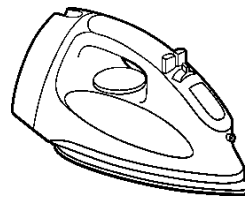
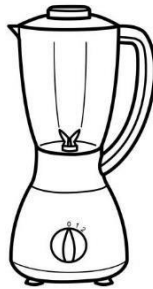

Professor (a): Gerlane Almeida

Eja

Disciplina: Matemática

1- Observe o preço de cada eletrodoméstico:

Panela de Pressão 130 reais	Liquidificador 90 reais	Ferro de passar 50 reais	Mesa 350 reais
---------------------------------------	-----------------------------------	------------------------------------	--------------------------



a) Qual é o produto mais caro?

b) Qual é o produto mais barato?

c) Quantos reais irei gastar se comprar o liquidificador e o ferro de passar?

d) A mesa custa quantos reais a mais do que a panela de pressão?

e) Escreva os valores dos eletrodomésticos na ordem decrescente, ou seja, do maior para o menor. Do mais caro para o mais barato;
