

Aluno: \_\_\_\_\_

Escola: \_\_\_\_\_

Data: \_\_\_/\_\_\_/\_\_\_ Ano de Escolaridade: **1º** Turma: \_\_\_\_\_





















Professor (a): \_\_\_\_\_ Disciplina: **Matemática**





















## Semana 21: de 28 de junho a 02 de julho.

**Conteúdo(s) desenvolvido(s):** Número naturais até 49, adição, subtração, sólidos geométricos

**Motive-se! Aprenda!** Vídeo: <https://www.youtube.com/watch?v=JzySdVmF8b0>  
[https://www.youtube.com/watch?v=nH3BBHmKa\\_E](https://www.youtube.com/watch?v=nH3BBHmKa_E)

1) DESCUBRA OS NÚMEROS QUE ESTÃO FALTANDO, OBSERVANDO OS SÍMBOLOS.


1		3	4		6	7		9	
	12	13			16		18		20
	22		24	25		27		29	30
31		33			36	37	38		40
41			44	45	46	47	48		50

	<input type="text"/>		<input type="text"/>		<input type="text"/>		<input type="text"/>
	<input type="text"/>		<input type="text"/>		<input type="text"/>		<input type="text"/>
	<input type="text"/>		<input type="text"/>		<input type="text"/>		<input type="text"/>
	<input type="text"/>		<input type="text"/>		<input type="text"/>		<input type="text"/>
	<input type="text"/>		<input type="text"/>		<input type="text"/>		<input type="text"/>

2) RESOLVA AS SITUAÇÕES PROBLEMAS ABAIXO.

LEMBRETE:

PARA **ADIÇÃO** TEMOS A IDEIA DE: ADICIONAR, JUNTAR, ACRESCENTAR



PARA **SUBTRAÇÃO** TEMOS A IDEIA DE: DIMINUIR, SUBTRAIR, TIRAR, ETC.

A) MAMÃE LAURA COMPROU



QUANTAS JOIAS ELA COMPROU?

**OPERAÇÃO**

**RESPOSTA**

ELA COMPROU \_\_\_\_\_ JOIAS.

B) SOFIA TINHA



, COMEU



QUANTOS DOCES RESTARAM?

**OPERAÇÃO**

**RESPOSTA**

RESTARAM \_\_\_\_\_ DOCES.

C) A MÃE DO LEONARDO TEM



E



QUANTOS VASOS DE PLANTAS ELA TEM AO TODO?

**OPERAÇÃO**

**RESPOSTA**

PLANTAS.

AO TODO, ELA TEM \_\_\_\_\_ VASOS DE

D) A PADARIA PÃO DE MEL FEZ



, VENDEU



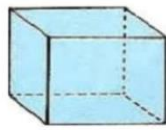
QUANTOS PÃES SOBRARAM?

**OPERAÇÃO**

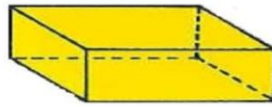
**RESPOSTA**

SOBRARAM \_\_\_\_\_ PÃES.


3) AS FIGURAS ABAIXO SÃO CHAMADAS DE SÓLIDOS GEOMÉTRICOS, OBSERVE.



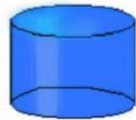
**cubo**



**paralelepípedo**



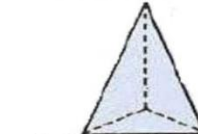
**esfera**



**cilindro**

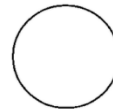
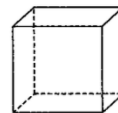
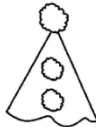


**cone**



**pirâmide**

A) LIGUE OS DESENHOS AOS SÓLIDOS GEOMÉTRICOS CORRESPONDENTE.



B) COMPLETE A CRUZADINHA COM OS NOMES DOS SÓLIDOS GEOMÉTRICOS.

