

Aluno: _____

Escola: _____

Data: ____/____/____

Ano de Escolaridade: 1º

Professor (a): _____

Disciplina: **Matemática**


Semana 22: de 05 a 10 de Julho de 2021

Conteúdo(s) desenvolvido(s): números naturais ;adição ;dezena e unidade

Motive-se! Aprenda! Vídeo: <https://youtu.be/QCyCCTZ9m1s>

<https://youtu.be/1GoLXe20FsU>

1 –DESCUBRAM OS NÚMEROS QUE FALTAM E ESCREVA -OS NOS ESPAÇOS CORRETOS.



1			4	5		7			
	12				16			19	20
		23				27	28		
31			34					39	
	42			45		47			

2 – CONTANDO E REGISTRANDO : ADIÇÃO.

$$\boxed{2} + \boxed{1} = \boxed{}$$



$$\boxed{2} + \boxed{5} = \boxed{}$$

$$\boxed{2} + \boxed{4} = \boxed{}$$

$$\boxed{3} + \boxed{4} = \boxed{}$$

$$\boxed{4} + \boxed{1} = \boxed{}$$

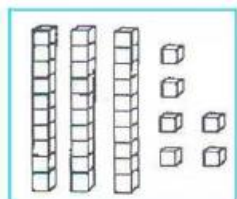


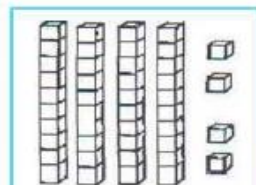
$$\boxed{6} + \boxed{3} = \boxed{}$$

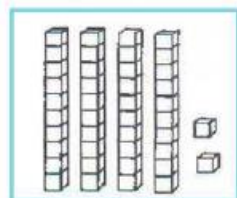
$$\boxed{1} + \boxed{1} = \boxed{}$$

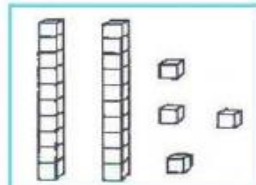
$$\boxed{8} + \boxed{2} = \boxed{}$$

3 - ESCREVA O NÚMERO CORRESPONDENTE AO MATERIAL DOURADO E RESPONDA.









O MENOR NUMERAL REPRESENTADO:

O MAIOR NUMERAL REPRESENTADO :