



GOVERNO DO ESTADO DO RIO DE JANEIRO
MUNICÍPIO DE SANTO ANTÔNIO DE PÁDUA
SECRETARIA MUNICIPAL DE EDUCAÇÃO



Aluno: _____
Escola: _____
Data: ____/____/____
Professor (a): _____


Ano de Escolaridade: 8º
Disciplina: Matemática

Semana 20: de 21 a 25 de junho de 2021

Conteúdo(s) desenvolvido(s): Classificação dos quadriláteros quanto aos lados e ângulos.

Motive-se! Aprenda! Vídeo: <https://www.youtube.com/watch?v=uT6sRYOzrhg>

1º) Veja a figura.

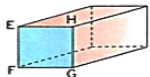


← LADO

← VÉRTICE

- a) Quantos lados tem essa figura? _____
b) Quantos vértices tem essa figura? _____
c) Compare o número de lados com o número de vértices. O que você observa? _____


2º) Identifique os lados, os vértices e os ângulos da face quadrada do paralelepípedo destacada em azul.




Lados: _____ Vértices: _____


Ângulos: _____

3º) Que nome recebe cada um desses quadriláteros?



4º) Escreva se cada figura é um paralelogramo ou trapézio.











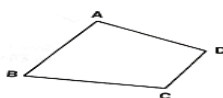




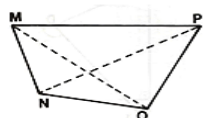




5º) Observe a figura, identifique e escreva o que se pede abaixo:



Vértices: _____
Lados: _____
Ângulos: _____



Vértices: _____
Lados: _____
Ângulos: _____