

Aluno: \_\_\_\_\_

Escola: \_\_\_\_\_

Data: \_\_\_/\_\_\_/\_\_\_

Ano de Escolaridade: 1º

Professor (a): \_\_\_\_\_

Disciplina: **Matemática**


## Semana 19: de 14 a 18 de junho de 2021

**Conteúdo(s) desenvolvido(s):** NÚMEROS NATURAIS ATÉ 49; MEDIDA DE MASSA;

**Motive-se! Aprenda!** Vídeo1: <https://youtu.be/Mc2GSndnMWc>

Vídeo 2: : <https://youtu.be/zFVxrghrwuE>

1. COMPLETE A SEQUÊNCIA NUMÉRICA ABAIXO.



2. QUEM VEM ANTES E QUEM VEM DEPOIS? OBSERVE A SEQUÊNCIA NUMÉRICA ACIMA PARA ESCREVER O ANTECESSOR E O SUCESSOR DOS NUMERAIS ABAIXO:

	24	
--	----	--

	29	
--	----	--

	13	
--	----	--

	33	
--	----	--

	32	
--	----	--



	21	
--	----	--

	45	
--	----	--

	42	
--	----	--



3. VAMOS CONTAR? OBSERVE OS QUADROS A SEGUIR CONTE E REGISTRE O NÚMERO DE ELEMENTOS DE CADA CONJUNTO.



4. RESOLVENDO.



LAVINIA COMPROU 3 PASTÉIS NA BARRAQUINHA DA FESTA DE SÃO JOÃO E LÉO COMPROU 6. QUANTOS PASTÉIS OS DOIS COMPRARAM JUNTOS?



.....
- .....
.....



NA FESTA JUNINA DA ESCOLA DE LARA HAVIA 2 BARRACAS DE JOGOS E 5 BARRACAS DE COMIDAS TÍPICAS. QUANTAS BARRACAS HAVIAM NA FESTA?



.....
- .....
.....



5. RESOLVA AS SUBTRAÇÕES.

5 - 4 =	6 - 4 =
9 - 3 =	5 - 0 =
8 - 6 =	4 - 3 =
7 - 7 =	9 - 1 =

8 - 7 =
7 - 3 =



## MEDIDA DE MASSA

VOCÊ SABE DIZER  
QUAL DESTAS FRUTAS  
PESA MAIS?



PARA MEDIR A MASSA (OU PESO) DE UM PRODUTO, OBJETO OU UM SER VIVO, UTILIZAMOS DIFERENTES UNIDADES DE MEDIDAS.

AS MAIS USADAS SÃO:

MEDIDAS	SÍMBOLO
GRAMA	G
QUILOGRAMA	KG

O **QUILOGRAMA (KG)** OU SIMPLEMENTE **QUILO** É UTILIZADO PARA NOS REFERIR À QUANTIDADE DE FEIJÃO EM UM PACOTE DE OU A MASSA DO CORPO DE UMA PESSOA. O **GRAMA (G)** É UTILIZADO PARA NOS REFERIR À PORÇÕES MENORES COMO A MASSA DE UM MAÇÃ OU UMA PERA.

A BALANÇA É UM INSTRUMENTO MAIS UTILIZADO PARA MEDIR A MASSA DOS OBJETOS, PESSOAS ETC.



6- QUAL UNIDADE DE MEDIDA DE MASSA É MAIS ADEQUADO PARA MEDIR OS ITENS A SEGUIR? QUILO OU GRAMA?










7- QUE INSTRUMENTO É UTILIZADO PARA MEDIR A MASSA OU O PESO DAS COISAS? \_\_\_\_\_

8- CIRCULE OS PRODUTOS QUE PODEMOS COMPRAR POR QUILOGRAMA, (KG).

