

Aluno: _____

Escola: Escola Municipalizada Deputado Armindo Marcílio Doutel de Andrade


Data: 01/06/2021 Eja Ano de Escolaridade: Fases: I a III




Professor (a): Gerlane Almeida

Disciplina: Matemática

HUUMM...

Pedro ajudou seu pai a fazer um balanço das vendas e colocaram os números na tabela abaixo. Observe e responda



			
SEXTA	35	42	60
SÁBADO	48	51	75
DOMINGO	27	34	50

- Quantos cachorros-quentes foram vendidos?
- Quantos hambúrgueres foram vendidos?
- Quantos refrigerantes foram vendidos?
- Quantos lanches ele vendeu no sábado e domingo?
- Em que dia ele vendeu mais lanches?