

Aluno (a): _____

Escola: _____

Data: ____/05/2021

Disciplina: **Matemática**

Professor (a) _____

Ano de Escolaridade: **5º ano**







SEMANA 15: 17 A 21 DE MAIO DE 2021

Conteúdo desenvolvido: sistema monetário.

Motive! Aprenda! Vídeo: <https://youtu.be/KtVumfl0ipq>



Observe a tabela de preços.

 R\$ 34,00	 R\$ 22,00	 R\$ 6,00
 R\$ 96,00	 R\$ 18,00	 R\$ 5,00

a) Qual brinquedo custa mais caro?

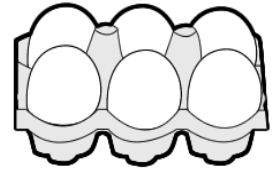
b) Qual brinquedo custa mais barato?

c) Qual a diferença de preço entre o brinquedo mais caro e o mais barato?

d) Quais brinquedos você compraria com R\$ 90,00? Quanto sobraria de troco?

e) Quanto você pagaria pelo urso, avião e carro?

1) DESCUBRA QUAL O TROCO QUE DONA SANDRA IRÁ RECEBER AO PAGAR AS COMPRAS:



	1 KG FEIJÃO	1 KG ARROZ	1 LITRO DE LEITE	MEIA DÚZIA DE OVOS
VALOR	R\$ 6,00	R\$ 9,00	R\$ 3,00	R\$ 2,00
PAGAMENTO	R\$ 10,00	R\$ 20,00	R\$ 5,00	R\$ 2,00
OPERAÇÃO	10 - 6	___ - ___	___ - ___	___ - ___
TROCO	R\$ 4,00			

2). FAÇA UMA PESQUISA E DESCUBRA O PREÇO DE CADA UM DESSES PRODUTOS QUE COMPRAMOS NO SUPERMERCADO.

PRODUTO	VALOR UNIDADE	VALOR 3 UNIDADES
 ACHOCOLATADO		
 LATA DE ÓLEO		
 1 KG DE FEIJÃO		
 1 LITRO DE LEITE		
 PÃO FRANCÊS		