

Aluno: _____

Escola: _____

Data: ___/___/___

Ano de Escolaridade: 1º ANO

Professor (a): _____

Disciplina: Matemática

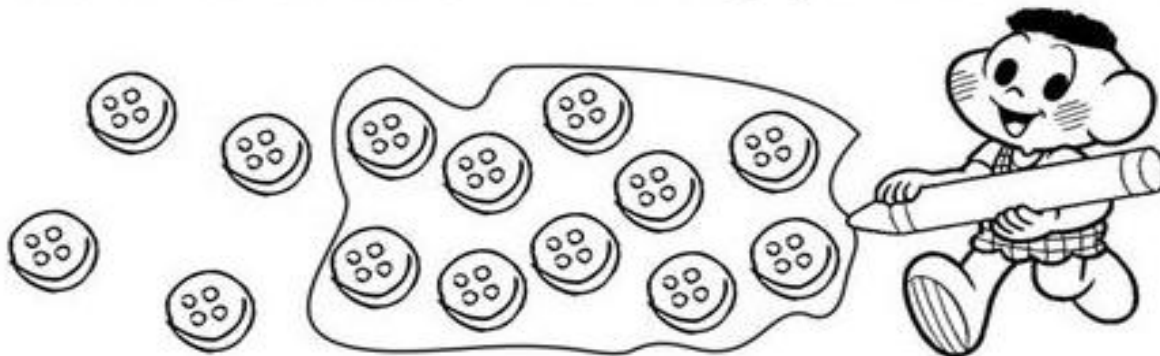
SEMANA 15: DE 17 A 21 DE MAIO

Conteúdo desenvolvido: Agrupamento e adição

Motive-se! Aprenda! Vídeo: <https://youtu.be/6EUdT5lwXXo>

De Olho na Atividade!

1. Observe a forma como Cascão agrupou os botões e responda.



a. O agrupamento de Cascão possui _____ botões.

b. Podemos dizer que Cascão agrupou

() 2 unidades

() 1 dezena

c. Quantas unidades ficaram de fora do agrupamento de Cascão?

2. Forme grupos de 10 botões:




a. Quantos grupos você formou? _____


c. O número total de botões corresponde a _____ dezenas

VAMOS SOMAR?


1. REPRESENTA A SOMA DAS PEÇAS DE DOMINÓ COMO NO MODELO:




$6 + 5 = 11$




___ + ___ = ___




___ + ___ = ___




___ + ___ = ___




___ + ___ = ___




___ + ___ = ___




___ + ___ = ___




___ + ___ = ___




___ + ___ = ___



___ + ___ = ___



___ + ___ = ___



___ + ___ = ___