

Aluno: _____

Data: ____/____/____

Ano de Escolaridade: 1^o

Professor (a): _____

Disciplina: **Matemática**

Semana 16 : de 24 a 28 de maio de 2021

Conteúdo(s) desenvolvido(s): dezena e unidade : adição

Motive-se! Aprenda! Vídeo: <https://youtu.be/yT-HYGDPTJU>

https://youtu.be/OU_ip5_BI4Y

1 – LEIA COM A AJUDA DE UM ADULTO ,CIRCOLE O NOME DOS NÚMEROS E RESPONDA .

OS GATINHOS

ISABEL CRISTINA S. SOARES

UM GATINHO BEM FELIZ

SUBIU NA TORRE A BRINCAR

SUBIU OUTRO E MAIS OUTRO


E PUSERAM-SE A CONTAR!

SOBE UM, DOIS, TRÊS

QUATRO, CINCO, SEIS

SETE, OITO, NOVE

DEZ GATINHOS DE UMA VEZ!



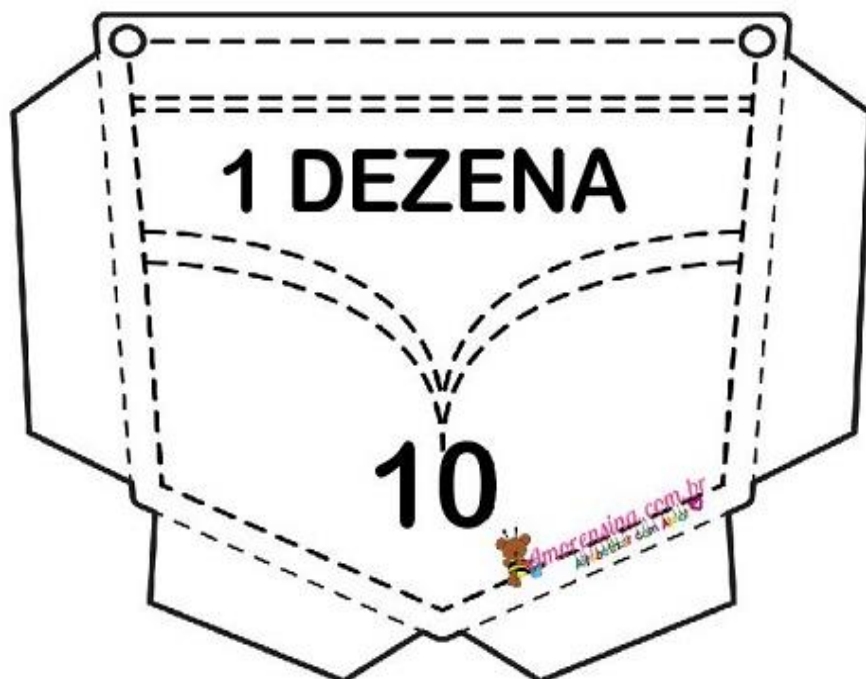

QUANTOS GATINHOS ESTÃO
NO TOPO DA TORRE?

2 – OBSERVE A TORRE COM OS GATINHOS E ESCREVA AS QUANTIDADES.



A) QUANTOS GATINHOS HÁ NA TORRE ?

A QUANTIDADE 10 REPRESENTA 1 DEZENA , ENTÃO NA TORRE HÁ
1 DEZENA DE GATINHOS .



PINTE, RECORTE E
MONTE NO CADERNO.