



GOVERNO DO ESTADO DO RIO DE JANEIRO
MUNICÍPIO DE SANTO ANTÔNIO DE PÁDUA
SECRETARIA MUNICIPAL DE EDUCAÇÃO



Aluno: _____

Escola: _____

Data: ___/___/___

Ano de Escolaridade: 7º

Professor (a): _____

Disciplina: Matemática

Semana 15: de 17 a 21 de maio de 2021

Conteúdo(s) desenvolvido(s): Localização de números racionais representados na forma decimal na reta numérica.

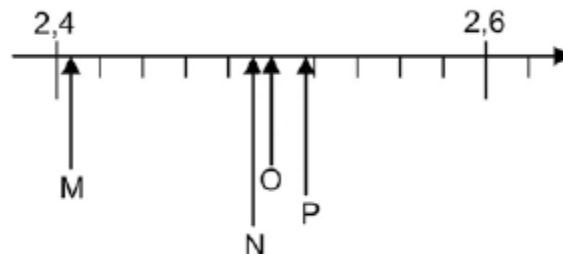
Motive-se! Aprenda! Vídeo: (<https://www.youtube.com/watch?v=xnVVgAQO3F4>
<https://www.youtube.com/watch?v=2Faj5CtqbDE>)

ATIVIDADES

1- Mário pesquisou o preço da gasolina nos postos perto de sua casa e obteve o resultado indicado no quadro abaixo.

POSTO	Alfa	Beta	Gama	Delta
PREÇO (R\$)	2,50	2,405	2,518	2,49

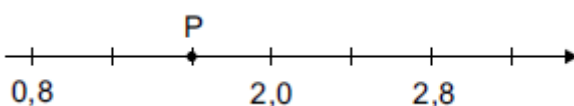
Na reta numérica abaixo, ele indicou os pontos correspondentes aos valores de cada posto.



Nessa reta, qual o ponto correspondente ao valor do preço da gasolina no posto Beta?

- (A) Ponto M.
- (B) Ponto N.
- (C) Ponto O.
- (D) Ponto P.

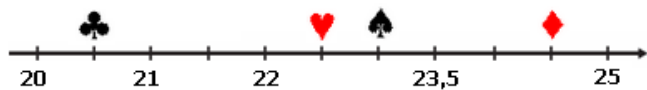
2- Veja a reta numérica abaixo.



Nessa reta, o ponto P está representando o número:

- (A) 1,0.
- (B) 1,2.
- (C) 1,6.
- (D) 2,0.

3- O professor de Priscila desenhou uma reta numérica como mostra abaixo.



Qual figura representa o número 22,5?

- A) ♣
- B) ♥
- C) ♠
- D) ♦