

Aluno: _____

Escola: _____

Data: 18/05/2021

Ano de Escolaridade: **Fase IV e V**

Disciplina: **Matemática**

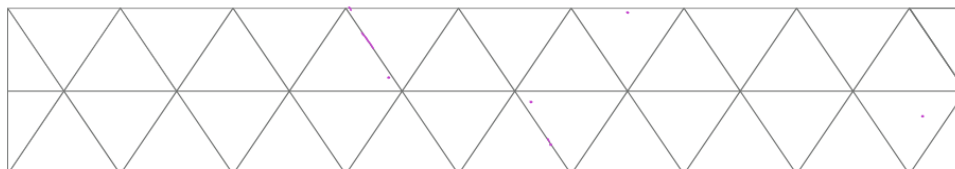
Semana 15: de 17 a 21 de maio de 2021

Conteúdo(s) desenvolvido(s): Figuras geométricas planas.

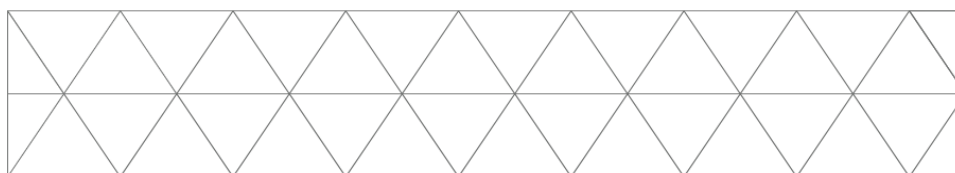
Motive-se! Aprenda!

1. Colorindo a malha triangular a seguir, forme.

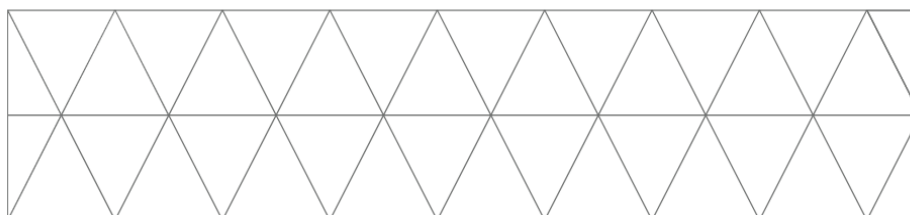
a) dois paralelogramos de mesma forma e de mesma medida.



b) dois trapézios de mesma forma e de mesma medida.



c) dois triângulos de mesma forma e de mesma medida.



d) dois hexágonos de mesma forma e de mesma medida.

