

Aluno: _____

Escola: Escola Municipalizada Deputado Armindo Marcílio Doutel de Andrade

Data: 11/05/2021 Eja Ano de Escolaridade: Fases: I a III

Professor (a): Gerlane Almeida

Disciplina: Matemática

1- Realize as somas e escreva os resultados por extenso:

$$\text{10 REAIS} + \text{5 REAIS} = \square$$


$$\text{50 REAIS} + \text{2 REAIS} = \square$$


$$\text{100 REAIS} + \text{20 REAIS} = \square$$


$$\text{20 REAIS} + \text{5 REAIS} = \square$$


$$\text{50 REAIS} + \text{10 REAIS} = \square$$


2- Escreva como se lê o valor de cada nota por extenso:


a)  _____

b)  _____

c)  _____

d)  _____

e)  _____

f)  _____