



GOVERNO DO ESTADO DO RIO DE JANEIRO
MUNICÍPIO DE SANTO ANTÔNIO DE PÁDUA
SECRETARIA MUNICIPAL DE EDUCAÇÃO



Aluno: _____
Escola: _____
Data: ____/____/____
Professor (a): _____

Ano de Escolaridade: 2º
Disciplina: Ciências

Semana 18: de 07 a 11 de junho de 2021

Conteúdo(s) desenvolvido(s): Elementos que compõe o Planeta Terra.

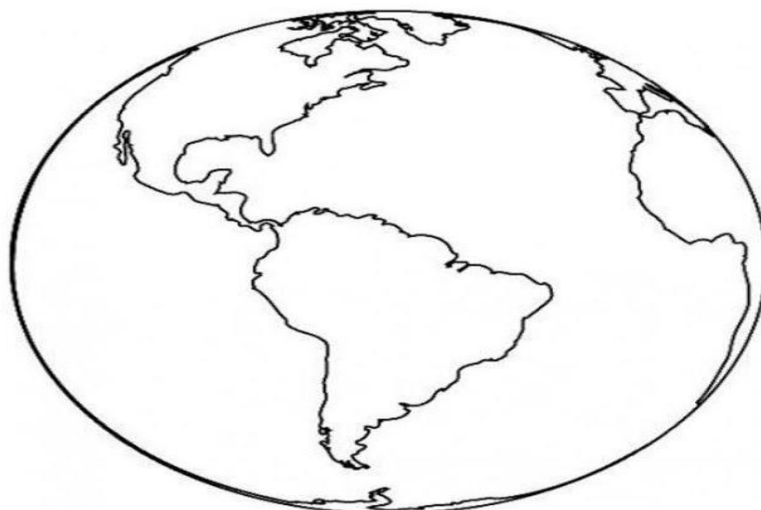
PLANETA TERRA

CAIO GANHOU UM GLOBO TERRESTRE E O LEVOU PARA A ESCOLA.

OS ALUNOS APRENDERAM QUE NOSSO PLANETA, A TERRA, TEM FORMA ARREDONDADA E QUE SUA SUPERFÍCIE TEM MAIS ÁGUA DO QUE TERRA.

DÊ UM COLORIDO BEM BONITO À REPRESENTAÇÃO DO PLANETA TERRA.


USE AZUL PARA REPRESENTAR A ÁGUA E MARROM PARA REPRESENTAR A TERRA.



CAIO SABE QUE O SOL, A LUA, AS ESTRELAS, A ÁGUA, O AR, AS PLANTAS E OS ANIMAIS FAZEM PARTE DA NATUREZA.

1- LEIA A PARLENDAS E DESENHE NO QUADRO DOIS ELEMENTOS CITADOS NELA QUE FAZEM PARTE DA NATUREZA:

SOL E CHUVA
CASAMENTO DE VIÚVA!
CHUVA E SOL
CASAMENTO DE ESPANHOL!



PARLENDAS

2- CONTORNE PARA SEPARAR OS ELEMENTOS DA NATUREZA



A) -QUANTOS SÃO OS ELEMENTOS DA NATUREZA?

B) -QUANTOS SÃO OS ELEMENTOS QUE NÃO SÃO DA NATUREZA?

C) -COMPLETE O QUE FALTA NOS DESENHOS.

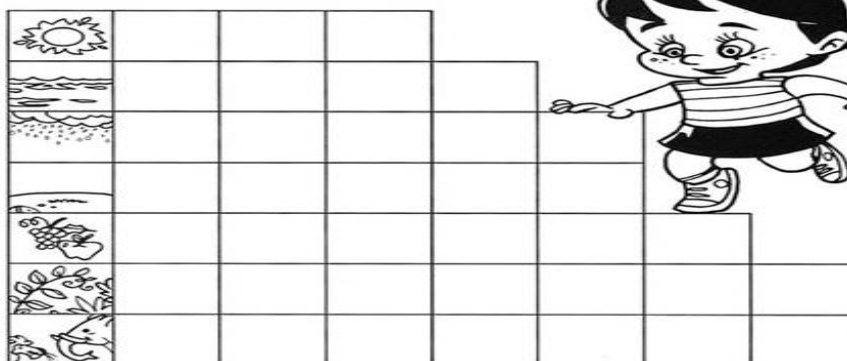


4- ENCAIXE AS PALAVRAS DO QUADRO NO DIAGRAMA.



Dica: OBSERVE A FIGURA E A QUANTIDADE DE LETRAS:

água – chuva – sol – frutas
terra – animais – plantas



5- AGORA, UTILIZE ALGUMAS DAS PALAVRAS ACIMA E CRIE, NO CADERNO, UMA HISTÓRIA BEM LEGAL. NÃO SE ESQUEÇA DO TÍTULO.