



Instituição: \_\_\_\_\_ Disciplina: Matemática








Aluno (a): \_\_\_\_\_

Conteúdo: Números Egípcios, Romanos e Naturais

Atividade Adaptada

Data: \_\_/\_\_/2021

1. OBSERVE A TABELA:

|   |   |   |   |   |  |   |
|---|---|---|---|---|--|---|
|  |  |  |  |  |  |  |
| 1   | 10  | 100   | 1.000   | 10.000  | 100.000  | 1.000.000   |

A) QUAL NÚMERO REPRESENTA O NUMERAL 10?



B) O NÚMERO 1.000 REPRESENTA UMA:

PEIXE

FLOR

HOMEM

C) O NUMERAL 1 SE ESCREVE:



D) FAÇA O DESENHO DO NUMERAL 1.000.000.

Atividades adaptadas do Caderno do Aluno do 6º ano do E. F e figuras disponíveis em: [www.google.com.br](http://www.google.com.br) (imagens).

Atividades adaptadas para o 6º ano do E.F. Elaboradas pela professora Maria Madalena Dornelas Borges.

2. OBSERVE OS NÚMEROS ROMANOS



A) O NÚMERO ROMANO 3 É:

 I III II

B) QUAL A LETRA DO ALFABETO REPRESENTA O NÚMERO 10?

 V L X

C) O NÚMERO 50 EM ROMANOS É:

 V X L

3. OBSERVE AS IMAGENS:



A) QUANTAS OVELHAS TÊM NO PASTO?

 2 6 3

B) NA MÃOS DO HOMEM TÊM \_\_\_\_\_ PEDRINHAS.

C) A QUANTIDADE DE OVELHAS E PEDRINHAS SÃO AS MESMAS?

 SIM NÃO

Atividades adaptadas e figuras do Caderno do Aluno do 6º ano do E. F.

Atividades adaptadas para o 6º ano do E.F. Elaboradas pela professora Maria Madalena Dornelas Borges.



D) NO PASTO TÊM \_\_\_\_\_  
OVELHAS.

E) PARA CADA OVELHA UMA PEDRINHA, ENTÃO O HOMEM TERÁ  
\_\_\_\_\_ PEDRINHAS.



F) NO PASTO TÊM QUANTAS  
OVELHAS?

4       2       8

G) NAS MÃOS DO HOMEM TÊM QUANTAS PEDRINHAS?

2       1       4

H) NA PENEIRA TEMOS \_\_\_\_\_ PEDRINHAS.

I) NO TOTAL SÃO QUANTAS PEDRINHAS?

8       7       10



J) QUANTAS OVELHAS TÊM NA  
IMAGEM?

1       0       7

Atividades adaptadas e figuras do Caderno do Aluno do 6º ano do E. F.

Atividades adaptadas para o 6º ano do E.F. Elaboradas pela professora Maria Madalena Dornelas Borges.

“Uma escola para todos e para cada um.”