



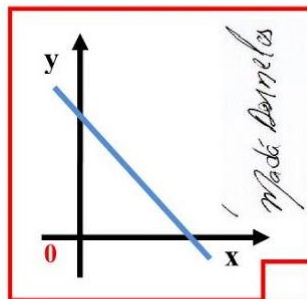
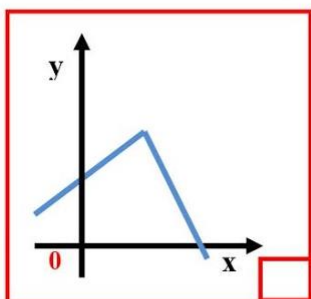
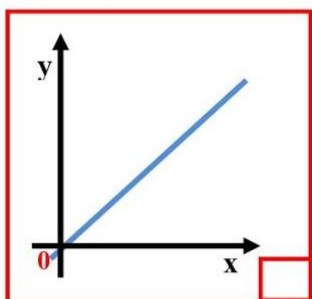
Instituição: _____

Aluno (a): _____

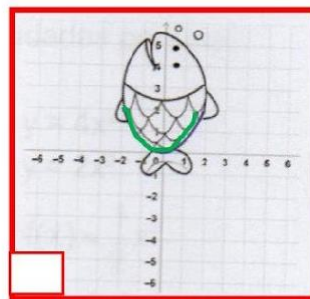
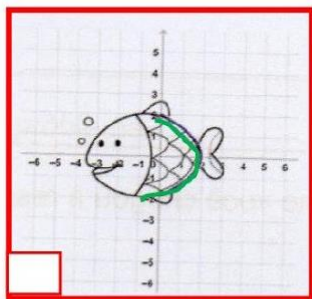
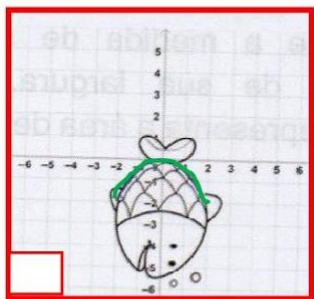
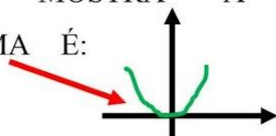
Disciplina: Matemática Conteúdo: Funções e Gráfico de funções Atividade Adaptada Data: __/__/2021

HABILIDADE: Relacionar linguagem matemática verbal com linguagem não verbal presentes em situações-problema a partir de adaptação curricular.

1. QUAL A RETA PASSA PELO PONTO DE ORIGEM (0)?

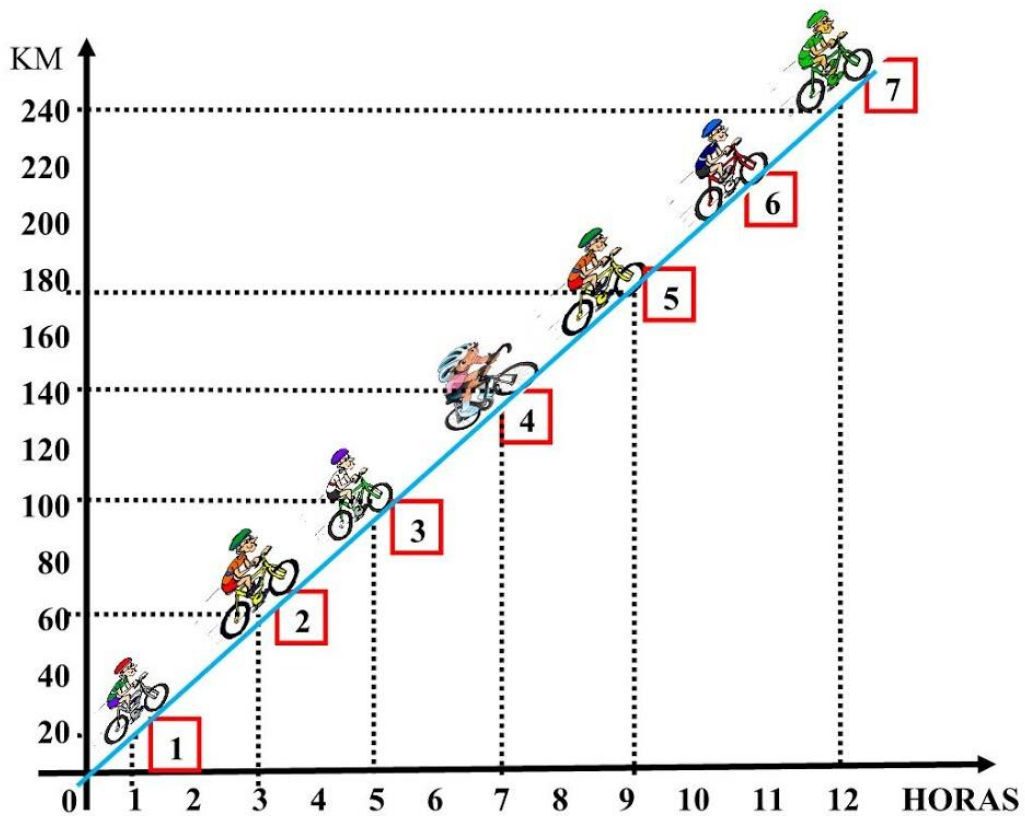


2. O GRÁFICO QUE MOSTRA A PARÁBOLA COM A CONCAVIDADE PARA CIMA É:



Figuras adaptadas extraídas da Avaliação da Aprendizagem em Processo (AAP) de Matemática da 1ª série do E.M.
Atividades adaptadas da 1ª série do E.M. Elaboradas pela professora especializada Maria Madalena Dornelas Borges.

3. OBSERVE O GRÁFICO:



A) O CICLISTA QUE PERCORREU **240** KM EM **12** HORAS FOI?




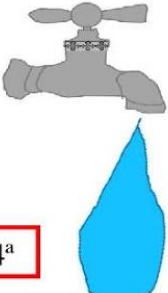


B) FAÇA UM CÍRCULO NO CICLISTA QUE PERCORREU **140** KM EM **7** HORAS.

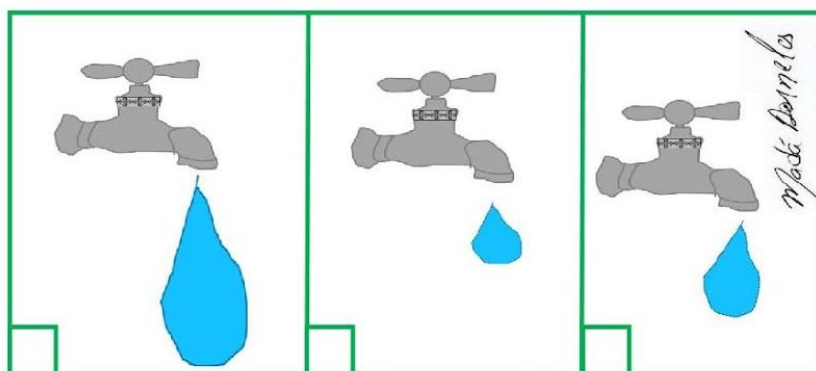
Atividades adaptadas da 1ª série do E.M. Elaboradas pela professora especializada Maria Madalena Dornelas Borges.

"Uma escola para todos e para cada um."

4. UMA TORNEIRA COMUM DE BANHEIRO DÁ VAZÃO A MUITA ÁGUA POR HORA, VEJA.

GOTEJAMENTO 2 L/mim	GOTEJAMENTO 4 L/mim	GOTEJAMENTO 6 L/mim	GOTEJAMENTO 8 L/mim
<i>Madalena Dornelas</i> 			
1 ^a	2 ^a	3 ^a	4 ^a

A) A TORNEIRA QUE VAZA MUITA ÁGUA É:



B) CIRCULE A TORNEIRA QUE VAZA POUCA ÁGUA.

C) QUANTOS LITROS DE ÁGUA VAZA NA 3^a TORNEIRA?

2 L/mim

6 L/mim

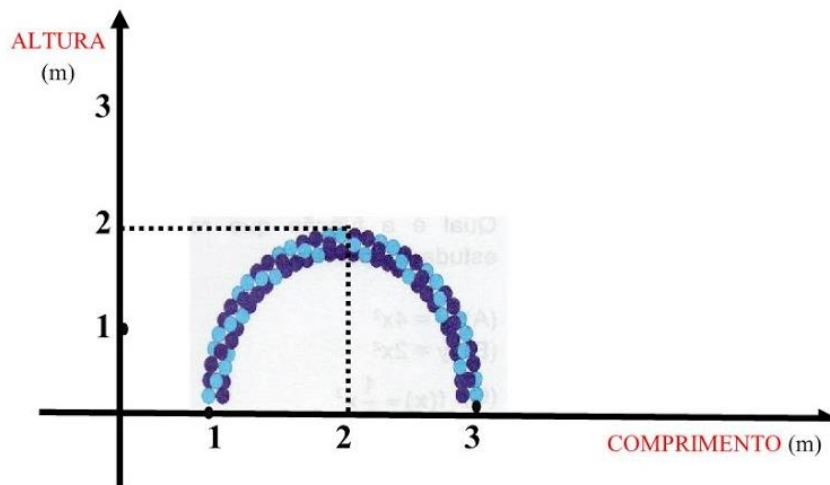
8 L/mim

Desenho feito por: Madalena Dornelas

Atividades adaptadas da 1^a série do E.M. Elaboradas pela professora especializada Maria Madalena Dornelas Borges.

"Uma escola para todos e para cada um."

5. OBSERVE O ARCO DE BALÕES FEITO PARA UMA FESTA DE ANIVERSÁRIO INFANTIL.



A) A ALTURA MÁXIMA DO ARCO DE BALÕES É:

1 METRO

2 METRO

3 METRO

B) QUAL AS CORES DOS BALÕES?

AZUL CLARO

VERMELHO

AZUL ESCURO

C) FAÇA UM ARCO DE BALÕES PARA SUA FESTA DE ANIVERSÁRIO.



Figura adaptada extraída da Avaliação da Aprendizagem em Processo (AAP) de Matemática da 1ª série do E.M.
Atividades adaptadas da 1ª série do E.M. Elaboradas pela professora especializada Maria Madalena Dornelas Borges.