



Aluno: _____

Escola: _____

Data: ___/___/___

Ano de Escolaridade: 3º

Professor (a): _____

Disciplina: História e Geografia

Semana 17: de 31 de maio a 02 de junho de 2021

Conteúdo(s) desenvolvido(s): Pontos cardeais.

Motive-se! Aprenda! Vídeo: <https://www.youtube.com/watch?v=w9MD2byvFUM>
Os Pontos Cardeais

Os Pontos Cardeais

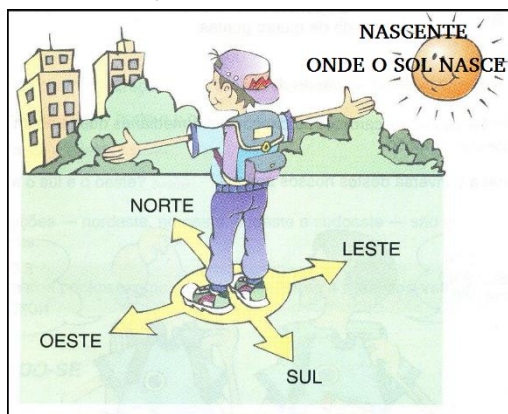
O Sol é uma estrela que ilumina e aquece a Terra.

Pela manhã podemos observar o Sol despontando no horizonte – é o nascer do Sol.

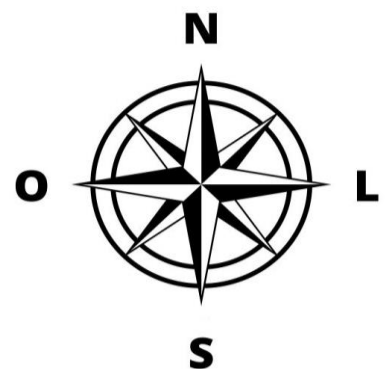
No fim da tarde, observamos o sol se pondo, quando não fica mais visível no horizonte - é o pôr do Sol.

Observando o movimento do Sol, foram estabelecidas quatro direções principais que nos permitem saber em que lugar estamos e em que direção devemos seguir.

Com o braço direito esticado na direção em que o Sol aparece pela manhã no horizonte, localizamos o **Leste**. O braço esquerdo indica o **Oeste**. À nossa frente está o **Norte** e atrás, o **Sul**.




Norte, Sul, Leste e Oeste são chamados de pontos cardeais. A rosa dos ventos é um desenho que indica as direções cardeais e as colaterais. Observe na rosa dos ventos as seguintes siglas N, S, L e O, que indicam (Norte, Sul, Leste e Oeste).





Rosa dos Ventos



1- Observe o desenho ao lado e complete as questões abaixo:

- a) O sol nasce no _____ e se põe no _____ .
- b) O braço direito está indicando o _____ e o esquerdo está indicando o _____ ,
- c) À frente do corpo do menino está o _____ e atrás o _____ .



2- Leia as frases com enigmas e depois escreva o que você decifrou. Vamos lá!

- O  , a  , o Cruzeiro do Sul e a bússola podem servir para nos orientar.

- A  nasce a Leste e põe-se a Oeste, como o .

- Os  e os navios usavam a  para se orientar, atualmente usam como orientação satélites artificiais.

- Norte, Sul, Leste e Oeste são chamados de pontos cardeais e aparecem na



Orientando -se pelo Sol, responda:

3- A porta da cozinha de sua casa, fica em qual direção? _____

4- E a porta da sua sala, fica em qual direção? _____