

Aluno: _____
Escola: _____
Data: ____/____/____
Professor (a): _____

Ano de Escolaridade: 3º ano
Disciplina: Matemática

Semana 12: de 26 a 30 de abril de 2021

Conteúdo(s) desenvolvido(s): Medida de tempo

Motive-se! Aprenda! Vídeo: Aprendendo as horas: <https://youtu.be/qMqv4i6sL6I>

Calendário: <https://youtu.be/O0BtOsCaH0w>

HORAS

- Para medir o tempo gasto em um dia usamos as horas, os minutos e os segundos.
- O instrumento utilizado para ver as horas é o relógio.
- O dia é dividido em 24 horas.
- A hora é dividida em 60 partes iguais, às quais damos o nome de minuto.
- O minuto é dividido em 60 partes iguais, às quais damos o nome de segundo.

Então:

- Uma hora tem 60 minutos.
- Um minuto tem 60 segundos.
- Meia hora tem 30 minutos.



Observe o relógio ao lado:



- 🕒 O ponteiro pequeno marca as horas.
- 🕒 O ponteiro grande marca os minutos.
- 🕒 O ponteiro médio, mais fino, marca os segundos.

ATIVIDADES

1- Que horas são? Circule a hora mostrada no relógio abaixo.



10:00
9:00
12:00



1:00
3:00
4:30



6:30
7:30
8:30



7:00
8:00
9:00



2:00
12:00
6:30



1:30
3:30
3:00



8:30
9:30
11:00







8:00
2:00
10:00

www.oespacoeducar.com.br

2- Marque nos relógios as horas indicadas.



3- Que horas cada relógio está marcando?



DIAS DA SEMANA

VAMOS APRENDER OS DIAS DA SEMANA!

SETE DIAS
A SEMANA TEM
QUANDO UM VAI
O OUTRO LOGO VEM
DOMINGO
SEGUNDA-FEIRA
TERÇA-FEIRA
QUARTA-FEIRA
QUINTA-FEIRA
SEXTA-FEIRA
SÁBADO

CANTEMOS JUNTOS
A CANÇÃO DO DIA
HOJE É _____
DIA DE ALEGRIA
A TODOS BOA TARDE
O MEU CANTO DIZ
QUE O DIA DE HOJE
SEJA BEM FELIZ!



4- Encontre no caça-palavras os dias da semana destacados no texto acima.

J	K	U	S	E	G	U	N	D	A	F	E	I	R	A
K	H	S	B	A	V	Z	P	O	I	N	H	F	S	U
T	E	R	Ç	A	F	E	I	R	A	J	M	V	X	P
O	W	E	S	E	G	U	N	L	O	P	Ç	M	T	E
Q	U	A	R	T	A	F	E	I	R	A	J	A	H	F
T	E	R	Ç	S	E	X	T	A	F	E	I	R	A	B
Ç	P	N	H	Q	U	I	N	T	A	F	E	I	R	A
J	N	M	H	R	T	S	G	M	L	L	N	M	V	O
D	O	M	M	J	H	F	D	O	M	I	N	G	O	K
V	G	K	M	G	D	X	O	O	E	S	W	G	L	P
D	H	K	S	A	B	A	D	O	D	J	O	H	N	V

MESES DO ANO



5- Agora é com você!

Qual é o primeiro mês do ano? _____

Pinte de vermelho o mês do seu aniversário.

Qual é o quarto mês do ano? _____

Qual é o mês que tem o nome com quatro letras? _____

Qual é o mês que tem maior número de letras?

Em que mês do ano festejamos o Natal?

6- Escreva nos corações o numeral correspondente aos meses do ano:



7- Complete de acordo com o que se pede.

MESES QUE COMEÇAM COM A:	MESES QUE COMEÇAM COM J:	MESES QUE COMEÇAM COM M:

8- Complete:

a) O relógio dá duas voltas por dia!

Da meia-noite ao meio-dia são _____ horas.

Do meio dia à meia-noite são _____ horas.

O dia tem _____ horas.

b) A semana tem _____ dias. Os dias da semana são:

_____,
_____,
_____,
_____,
_____,
_____ e
_____.