

Aluno (a): _____

Escola: _____

Data: ___/___/___ Ano de Escolaridade: 2º ano

Professor (a) _____


MATEMÁTICA
SEMANA 13: 03 A 07 DE MAIO DE 2021

- 1- JOÃO JUNTOU BOLINHAS DE GUDE DESDE O ANO PASSADO E HOJE ELE POSSUI UMA BOA QUANTIDADE, MARQUE A ALTERNATIVA ABAIXO QUE CORRESPONDE QUANTAS BOLINHAS JOÃO JUNTOU.



- A) 30 B) 32 C) 34 D) 36











- 2- COMPLETE OS NÚMEROS FALTOSOS DA RETA NUMÉRICA.



- a) QUAL O MAIOR NÚMERO DA RETA QUE VOCÊ PREENCHEU? _____
- b) E O MENOR NÚMERO DA RETA? _____
- c) QUAL O ANTECESSOR DE 15? _____
- d) QUAL O SUCESSOR DE 7? _____
- e) QUAL NÚMERO ESTÁ ENTRE 10 E 12? _____

VAMOS SOMAR

3- Depois de somar que tal pintar as figuras com suas cores prediletas?

HAVIAM	CHEGARAM	TOTAL
		$\begin{array}{r} 4 \\ + 3 \\ \hline 7 \end{array}$
		$\begin{array}{r} \dots \\ + \dots \\ \hline \dots \end{array}$
		$\begin{array}{r} \dots \\ + \dots \\ \hline \dots \end{array}$
		$\begin{array}{r} \dots \\ + \dots \\ \hline \dots \end{array}$
		$\begin{array}{r} \dots \\ + \dots \\ \hline \dots \end{array}$