

Aluno (a): _____







Escola: _____

Data: ____/____/____ Ano de Escolaridade: _____



Professor (a) _____ CÓDIGO 02

MATEMÁTICA

1) DE ACORDO COM OS DESENHOS, COMPLETE AS HISTÓRIAS MATEMÁTICAS:

<p>NO JARDIM DE MARIA TINHA:</p> 	<p>CHEGARAM MAIS:</p> 	<p>NO TOTAL, FICARAM BORBOLETAS.</p> $\begin{array}{r} \dots\dots \\ + \dots\dots \\ \hline \dots\dots \end{array}$
<p>ANA TINHA:</p> 	<p>ELA GANHOU DO VOVÔ:</p> 	<p>ANA TEM GALINHAS AGORA.</p> $\begin{array}{r} \dots\dots \\ + \dots\dots \\ \hline \dots\dots \end{array}$
<p>NA SAVANA HAVIA:</p> 	<p>CHEGARAM MAIS:</p> 	<p>AGORA TEM ZEBRAS NA SAVANA.</p> $\begin{array}{r} \dots\dots \\ + \dots\dots \\ \hline \dots\dots \end{array}$
<p>HAVIA NO LAGO:</p> 	<p>CHEGARAM MAIS:</p> 	<p>NO LAGO FICARAM PEIXES.</p> $\begin{array}{r} \dots\dots \\ + \dots\dots \\ \hline \dots\dots \end{array}$

2) VAMOS AJUDAR O HÉRCULES A ALCANÇAR SUA BOLA COMPLETANDO OS NUMERAIS QUE FALTAM.

	41			
		47		
			58	

3) PINTE OS CARRINHOS QUE ESTÃO NA ORDEM DECRESCENTE.

