

GOVERNO DO ESTADO DO RIO DE JANEIRO  
MUNICÍPIO DE SANTO ANTÔNIO DE PÁDUA  
SECRETARIA MUNICIPAL DE EDUCAÇÃO



Escola: \_\_\_\_\_

Data: \_\_\_\_/\_\_\_\_/\_\_\_\_ Ano de Escolaridade: \_\_\_\_\_ 5º

Professor (a) Claudevan José Sivirino da Silva

MATEMÁTICA

## SEMANA 09: DE 05 A 09 DE ABRIL DE 2021

Conteúdos: Operações de adição e subtração com reserva.

**Motive-se! Aprenda!** Vídeo: <https://www.youtube.com/watch?v=mdoVsmay9M4>

### VAMOS PRATICAR A MATEMÁTICA?

*Você sabia que a 1ª edição dos Jogos Indígenas em Santa Isabel, foi em 2014? Os jogos dos povos indígenas têm o seguinte princípio:*

**“O importante não é competir, e sim, celebrar”.**

#### Modalidades de integração indígenas

- arco e flecha
- arremesso de lanças
- canoagem
- cabo de força
- corrida de tora
- corridas de velocidade (100 m)
- corrida de resistência (5000 m)
- natação (travessia em águas abertas)

1- Quando aconteceu a primeira edição dos Jogos Indígenas? Em que ano ? Esse número corresponde a:

2 milhares, 1 centenas, 0 dezenas e 4 unidades

2 milhares, 0 centena , 1 dezena e 4 unidades

2 milhares, 0 centena , 4 dezena e 1 unidade

2 milhares, 1 centena , 1 dezena e 4 unidades

2- Quantos metros é a prova da corrida de velocidade?

\_\_\_\_\_

3- Na prova de arco e flecha Potiguá fez 5.385 pontos, Juraci teve 989 pontos a menos que ele, quantos pontos Juraci fez?

Resposta: \_\_\_\_\_

4-O valor da corrida de resistência é 5.000 metros. Qual a sentença matemática que indica esse resultado? Assinale a alternativa correta.

(A)  $3.000 \times 2$  (B)  $2.400 \times 2 + 200$  (C)  $4.000 \times 1 + 99$  (D)  $600 \times 2 + 3.000$

Observe a quantidade de peças que foram produzidas em 10 escolas para a Olimpíada Indígena:

	Peças	Quantidades
Zarabatana		500
Arco e flecha		650
Lança		550
Peteca		425

5- Quantas peças foram produzidas no total:

(A) 2.125 (B) 4.250 (C) 550 (D) 650

Faça a operação matemática aqui:

Quantas peças a mais foram produzidas entre a Zarabatana e Peteca?

Resposta: \_\_\_\_\_

6- Qual a diferença de peças produzidas entre Arco e flecha e a Peteca ?

Faça a operação matemática aqui:

Resposta: \_\_\_\_\_

7- Escreva os números por extenso. Faça como no modelo

abaixo:

2020: dois mil e vinte

10.943:

\_\_\_\_\_

500.903:

\_\_\_\_\_

66.050:

\_\_\_\_\_

5.250:


\_\_\_\_\_

420.005:

\_\_\_\_\_

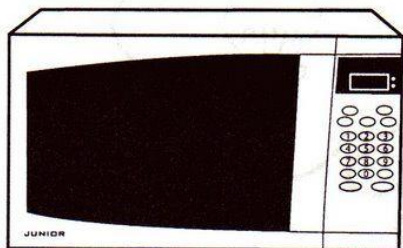
# CALCULANDO

✎ Calcule o preço dos produtos abaixo:



12 pagamentos  
de R\$195,00

Operação




12 pagamentos  
de R\$48,00

Operação



12 pagamentos  
de R\$34,00

Operação



12 pagamentos  
de R\$179,00

Operação



12 pagamentos  
de R\$73,00

Operação

