

ESCOLA MUNICIPAL _____


Aluno (a): _____

Data: ____/____/____ Ano de Escolaridade: _____


Professor (a) _____

Atividade de Matemática – 2º ano – Semana de 15 a 19 de março


1) Separe de dois em dois e marque a resposta correta.




- É par
 É ímpar



- É par
 É ímpar

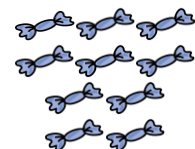



- É par
 É ímpar



- É par
 É ímpar

2) Circule apenas os grupos em que a quantidade for par.



3) Escreva de 1 a 10 e pinte apenas os números pares.

