

ESCOLA MUNICIPAL _____


Aluno (a): _____

Data: ____/____/____ Ano de Escolaridade: _____


Professor (a) _____

Atividade de Matemática – 2º ano – Semana de 15 a 19 de março


1) Conte e marque a resposta correta:




par ímpar



par ímpar



par ímpar



par ímpar

2) Quanto falta para completar uma dezena?

