

Aluno (a): _____

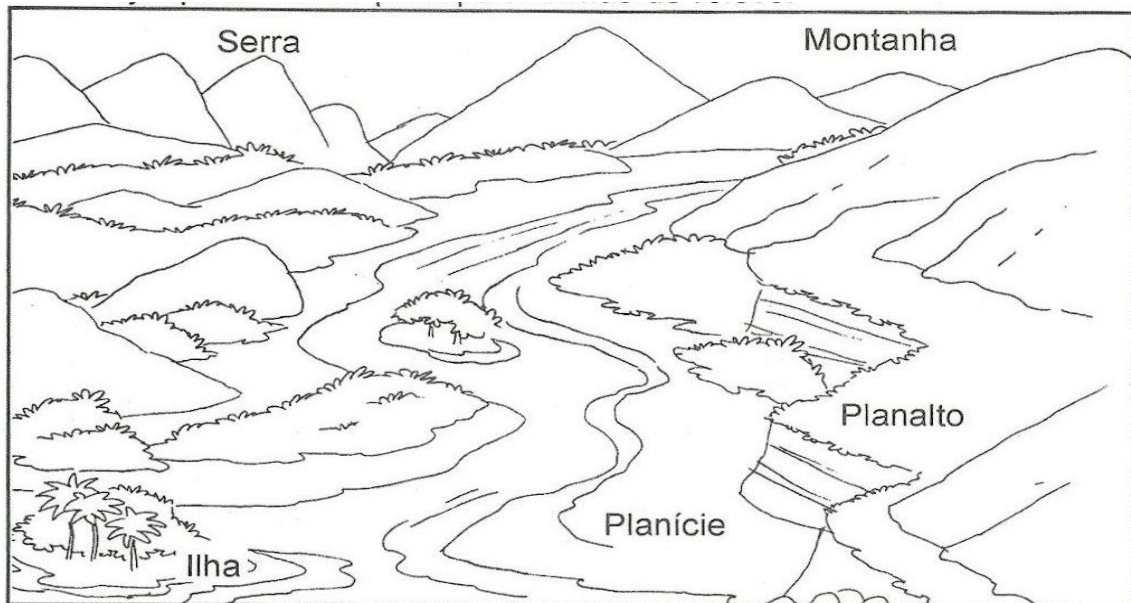
Escola: _____

Data: ____/____/____ Ano de Escolaridade: _____

Professor (a) _____

Atividade de Geografia



1) Observe as formas de relevo:



- Planície: terreno plano e baixo.
- Planalto: terreno plano situado em lugar alto.
- Montanha: grande elevação de terra.
- Morro ou monte: pequena elevação de terra.
- Serra: conjunto de montanhas.
- Vale: espaço entre duas montanhas ou montes.
- Ilha: porção de terra cercada de água.

2) Complete a cruzadinha, identificando as formas de relevo:

- 1 - Pequena elevação de terra.
- 2 - Terreno baixo e plano.
- 3 - Espaço mais baixo entre duas montanhas.
- 4 - Grande elevação de terra.



3) Observe as figuras e escreva como se chamam cada uma das partes do relevo.

