

Aluno: _____

Escola: _____

Data: ___/___/___

Ano de Escolaridade: **2º**

Professor (a): **Adriana de Fátima Gomes**

Disciplina: **Matemática**

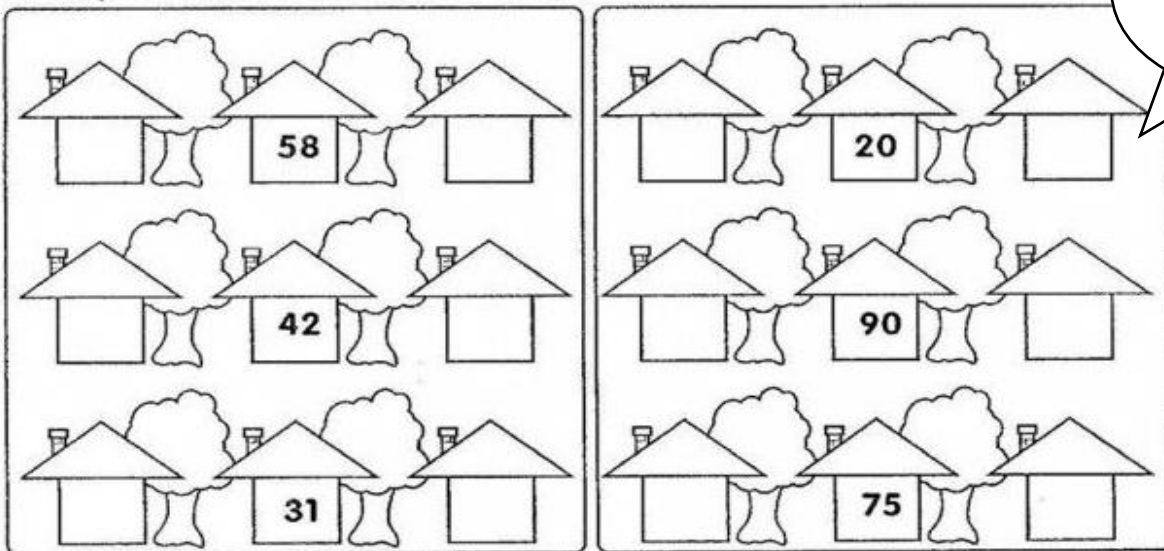
Semana 08: de 29 a 31 de março de 2021


Conteúdo(s) desenvolvido(s): **Números Naturais; Antecessor e sucessor; Ordem crescente e decrescente.**

Motive-se! Aprenda! Vídeo: <https://www.youtube.com/watch?v=mo2lgq3lqVY> 

1- Complete com o antecessor e o sucessor, ou seja, os números vizinhos.

Antecessor = antes
Sucessor = depois



 Adivinhe que número sou eu?

Fico entre 13 e 15 _____

Fico entre 35 e 37 _____

Fico atrás de 52 _____

Fico à frente de 67 _____

 Responda:

Que número está entre 20 e 22? _____

Que número vem antes de 60? _____

Que número vem após 79? _____



2- Pinte somente o numeral que é o antecessor de 48:

19	22	27	66	50	47	78	81
----	----	----	----	----	----	----	----

3-Pinte o numeral que é o antecessor do 14:

10	15	23	19	14	15	11	13
----	----	----	----	----	----	----	----


4-Pinte o numeral que é o sucessor do 74:

47	65	72	89	47	37	75	91
----	----	----	----	----	----	----	----

5-Pinte o numeral que é o sucessor do 99:

69	90	100	88	60	51	47	71
----	----	-----	----	----	----	----	----

6- O Diretor João retirou um aluno de cada sala e formou a Turma do Jogral para a Festa da Páscoa. Observe as crianças.



CIDA 8 ANOS	CÁSSIO 10 ANOS	BETO 7 ANOS	BIA 9 ANOS	ANA 6 ANOS	JEAN 11 ANOS	ROSE 12 ANOS
----------------	-------------------	----------------	---------------	---------------	-----------------	-----------------

a) Agora, organize a turma em ordem decrescente, por idade:

--	--	--	--	--	--	--

b) Agora, em ordem crescente, por altura:

--	--	--	--	--	--	--

7- Quem está entre?

