



Aluno(a): _____

Escola _____

Data: ____/____/____ Ano de Escolaridade: _____ Professor (a) _____

PLANEJAMENTO SEXTA – FEIRA

- TEMA: LATERALIDADE – NOÇÕES ESPACIAIS
- VÍDEO: MUSICA DESENGONÇADA – BIA BEDRAN
<https://www.youtube.com/watch?v=8XTHW5k1R2A>

MATEMÁTICA

1 - OBSERVE A CASINHA E RESOLVA O QUE SE PEDE.



A) QUANTAS JANELAS
TEM A CASINHA?

B) QUANTAS JANELAS
TERIAM DUAS CASINHAS
JUNTAS?

- () 9 () 11
() 8 () 10

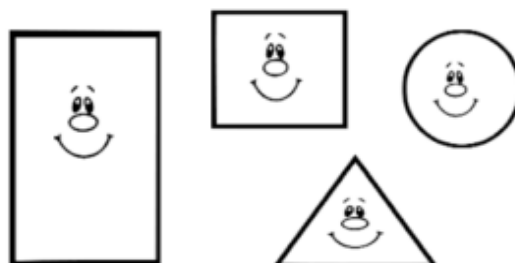
C) QUANTAS JANELAS
ESTÃO DO LADO DIREITO
DA PORTA?

D) DESENHE MAIS DUAS
JANELAS. QUANTAS SÃO
AGORA?

E) AGORA, QUAL LADO
TEM MAIS JANELAS?



- () DIREITO
() ESQUERDO

F) QUAL FORMA SE
PARECE COM O TELHADO
DA CASINHA? CIRCULE.



MATEMÁTICA

1 - PINTE AS FORMAS GEOMÉTRICAS E LIGUE AOS NOMES CORRETOS USANDO CORES DIFERENTES.



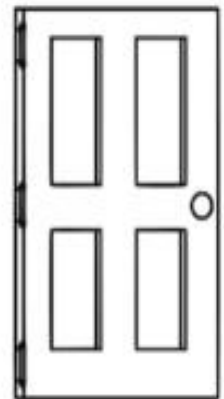
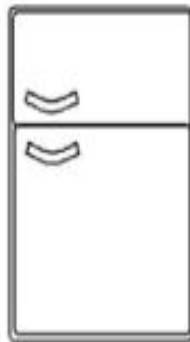
QUADRADO

RETÂNGULO

TRIÂNGULO

CÍRCULO

2 - CIRCULE OS OBJETOS QUE TÊM FORMATO RETANGULAR.



3 - COMPLETE A SEQUÊNCIA.

